

# வணிகக்கல்வி

## Business Studies

செயல் நூல் - 02

கடந்தகால வினாக்கள்  
அலகு ரீதியான தொகுப்பு  
தேர்ச்சி 5 - 11



**தொகுப்பு- T.S நிஷி**

(B.B.A(Hons),HRM(Spl),PGDE)

ஆசிரியர்: சென்னைக் கல்லூரி

## 05. முயற்சியாண்மை

### பகுதி – I

பின்வரும் வினாக்கள் ஒவ்வொன்றுக்கும் மிகவும் பொருத்தமான விடையைத் தெரிவு செய்க

01. பின்வருவனவற்றுள் உள்ளக முயற்சியாண்மையின் குணாம்சம் யாது? 2019/10  
(1)நிறுவனங்களின் பதவிநிலைகளுக்கு அதிக ஆக்கத்திறனைக் கொண்ட நபர்களை ஆட்சேர்ப்புச் செய்தல்  
(2)நிறுவனங்களில் பணியாற்றும் ஆக்கத்திறனுடைய நபர்களால் உற்பத்தியில் புத்தாக்க முறைகள் அறிமுகம் செய்யப்படுதல்  
(3)நிறுவனத்தால் மானிடத் தேவைகளையும் விருப்பங்களையும் பூர்த்தி செய்யக்கூடிய உற்பத்திகள் வழங்கப்படுதல்  
(4)சூழல்,சமூகப் பிரச்சினைகளைக் கவனத்திற்கொண்டு சூழல்மீது நேர்ப்பாங்கான தாக்கத்தை ஏற்படுத்துதல்  
(5)மானுட நேயம்மிக்க உலகினை உருவாக்குவதற்கான முயற்சிகளை மேற்கொள்ளல் ( )
- 02.நபர் ஒருவரிடம் காணப்படும் குணாம்சங்கள் சில கீழே தரப்பட்டுள்ளன. 2019/11  
A- பிரச்சினைகள் காரணமாக தைரியமிழ்த்தல்  
B- பாரம்பரிய முறைகளை நடைமுறைப்படுத்த விரும்புதல்  
C- இடர்களை எதிர்கொள்ள விரும்புதல்  
D- நிலையான சூழலொன்றில் பணிபுரிய விரும்புதல்  
E- சவால்களுக்கு முகங்கொடுக்க விரும்புதல்  
மேற்குறித்தவற்றுள் முயற்சியாளர் ஒருவருக்கு உரித்தான குணாம்சங்களை மாத்திரம் கொண்ட தெரிவு யாது?  
(1)A யும்,E யும் (2)B யும்,C யும் (3)C யும்,D யும் (4)C யும்,E யும் (5)D யும்,E யும் ( )
03. பின்வருவனவற்றுள் மிகச்சரியான கூற்றைத் தெரிவு செய்க  
1. முயற்சியாளர் ஒரு வணிகர் ஆவார்  
2. முயற்சியாளர் ஒரு முகாமையாளர் ஆவார்  
3. முயற்சியாளர் ஒரு தொழில்வாண்மையாளர் ஆவார்  
4. முயற்சியாளர் ஒரு பகுப்பாய்வாளர் ஆவார்  
5. முயற்சியாளர் ஒரு வாய்ப்பைத் தேடுவர் ஆவார் (2017 / B1 / 9)
04. முயற்சியாண்மையின் மூலம் முயற்சியாளர் ஒருவருக்கு கிடைக்கும் தனிப்பட்ட அனுகூலம் (2016 / 15)  
1. மொத்த உள்நாட்டு வருமானம் அதிகரித்தல்  
2. வேலைவாய்ப்பு அதிகரித்தல்  
3. சமூக அந்தஸ்து மற்றும் அங்கீகாரம் அதிகரித்தல்  
4. புதிய பொருட்கள் சேவைகளை நுகர்வதற்கான வாய்ப்புக்கள் அதிகரித்தல்  
5. மக்களின் வாழ்க்கைத்தரம் அதிகரித்தல் (.....)
05. 'சமூக முயற்சியாண்மை' என்பதை மிகவும் சரியாக விபரிப்பது (2016 / 16)  
1. இடம்பெயர்ந்த மக்களுக்காக கூடாரங்களை அமைத்தல்  
2. பாடசாலை மாணவர்களுக்கு இலவசமாகப் புத்தகங்களை வழங்குதல்  
3. தனது வணிகத்தில் குடும்ப அங்கத்தவர்களை இணைத்துக்கொள்ளல்  
4. எரிபொருள் நுகர்வைக் குறைக்கக்கூடிய வகையில் ஒரு புதுமையான உபகரணத்தை தயாரித்தல்  
5. இயலாமையுடைய இளவயதினருக்காக நிறுவனத்திற்குள்ளே 10% வேலைவாய்ப்பை வழங்கல் (.....)
06. பின்வருவன வணிகம் ஒன்றை ஆரம்பிப்பது தொடர்பிலான சில ஆரம்ப படிமுறைகள் ஆகும். இவற்றுள் சிற்றளவு வணிகம் ஒன்றை ஆரம்பிப்பதற்கான முதலாவது படிமுறை எது? (2015 / 11)  
1. மூலதனத்தை கண்டறிதல் 2. ஒரு சந்தை அளவை வாய்ப்பை மேற்கொள்ளல்  
3. ஒரு வணிக எண்ணத்தை உருவாக்குதல் 4. வணிகத்துக்கான இட அமைவைக் கண்டறிதல்  
5. வணிகத்தைப் பதிவு செய்தல் (.....)

07. பின்வரும் அட்டவணையானது முயற்சியாளர் ஒருவர் வணிகம் ஒன்றைத் தொடங்குவதில் செல்வாக்குச் செலுத்தும் சில காரணிகள் மற்றும் உதாரணங்களை எடுத்துக்காட்டுகிறது

காரணிகள்	உதாரணங்கள்
A – தனிப்பட்ட பின்னணிக்காரணிகள்	1. வணிகக்குடும்பத்தில் இருந்து பெறப்பட்டமை
B – சமூக காரணிகள்	2. சுய நம்பிக்கை
C – முயற்சியாண்மைக் காரணிகள்	3. வேலை வாய்ப்பின்மை

காரணிகள் மற்றும் உதாரணங்கள் தொடர்பில் சரியாகப் பொருந்துகின்ற தொகுதியை தெரிவு செய்க (2015 / 12)

1. A - 1, B - 2, C - 3      2. A - 2, B - 1, C - 3      3. A - 1, B - 3, C - 2  
4. A - 3, B - 2, C - 1      5. A - 2, B - 3, C - 1

08. A – தனது திறமைகளை உச்சமட்டத்தில் பயன்படுத்துவதற்கான விருப்பம்

- B - சமூகத்தில் காணப்படும் ஏதேனுமொரு பிரச்சினையை தீர்ப்பதில் பங்கேற்பதற்கான விருப்பம்  
C – தொழில்களினூடாக பெற்றுக்கொண்ட அனுபவம்  
D - நிரந்தரமான வருமானமொன்றை பெற்றுக்கொள்வதற்கான விருப்பம்  
E – குறித்த ஒரு துறை தொடர்பாக பெற்றுள்ள கல்வியும் பயிற்சியும்  
F - இடர்களை குறைத்துக்கொள்வதற்கான விருப்பம்

மேலுள்ளவற்றிலிருந்து முயற்சியாளர் ஒருவர் உருவாகுவதற்கு ஏதுவாகக்கூடிய காரணிகளை உள்ளடக்கிய தீர்மானத்தை

- தெரிவு செய்க (2014 / 08)  
1. A,B,C,D      2. A,B,C,E      3. A,B,D,E      4. B,C,E,F      5. C,D,E,F      (.....)

09. முயற்சியாண்மை அபிவிருத்தி தொடர்பில் தடையை ஏற்படுத்துகின்ற (hindering) மற்றும் வளர்ச்சியில் ஏற்படுத்துகின்ற (Fostering) காரணிகள் சில கீழே தரப்படுகின்றது

- A - மனோநிலை (Mindset)  
B - கற்பனையையுடைய சிந்தனை (Imaginary thinking)  
C - முன்மாதிரிகள் (Role Models)  
D - அதேமாதிரிப் பின்பற்றுதல் (Replication)  
E - அனுபவங்கள் (Experience)  
F - பாரம்பரியத்தன்மை (Being traditional)

மேற்கூறப்பட்டவற்றுள் முயற்சியாண்மை அபிவிருத்தி தொடர்பில் தடைகளை ஏற்படுத்துகின்ற காரணிகளை மட்டும் உள்ளடக்கியுள்ள தொகுதியைத் தெரிவு செய்க (2012 / 09)

1. A,D,F      2. B,C,E      3. B,C,D      4. C,D,E      5. D,E,F      (.....)

10. முயற்சியாண்மை அபிவிருத்தியின் மீது செல்வாக்குச் செலுத்தும் தனிப்பட்ட காரணிகளும், தூழல் காரணிகளும் கீழே தரப்படுகின்றது

1. அனுபவம்      2. வகிபாக மாதிரிகள் / முன்மாதிரிகள் (Role Models)  
3. வாய்ப்புக்கள்      4. தலைமைத்துவம்  
5. போட்டி      6. கல்வி  
7. தூரநோக்கு      8. முதலீட்டாளர்

மேலே குறிப்பிட்டவற்றுள் தூழல் காரணியாக எவற்றைக் கருதமுடியும்? (2011 / 09)

1. 2,4,7,8      2. 3,5,6,7      3. 2,3,5,8      4. 3,6,7,8      5. 1,3,7,8      (.....)

11. A – நெகிழ்வுத்தன்மை, ஆக்கத்திறன், நன்னோக்கு, வாய்ப்புப்பகுப்பாய்வு

- B - ஆர்வம், தன்னம்பிக்கை, நன்னோக்கு, சுயாதீனம்  
C - திடசங்கற்பம், அர்ப்பணிப்பு, தொடர்பாடல், திருப்தி  
D - சமயோசிதம், கற்பனை, நெகிழ்வுத்தன்மை, அர்ப்பணிப்பு  
E - நெகிழ்வுத்தன்மை, புரிந்துணர்வு, ஆர்வம், தன்னம்பிக்கை

மேலே தரப்பட்டவற்றுள் முயற்சியாண்மை சார்ந்த சிறப்பியல்புகளை மட்டும் உள்ளடக்கியுள்ள தொகுதி யாது? (2010 / B - II / 01)

1. A,B,C      2. A,B,D      3. B,C,D      4. B,D,E      5. C,D,E      (.....)

12. அகிலன் என்பவர் தனது தந்தையிடமிருந்து வாரிசரிமையாகப் பெற்ற தொழிற்சாலையை விரிவுபடுத்தியதுடன் அதற்காக புதிய இயந்திரங்களையும் அறிமுகப்படுத்தினார்.
- தினுஷா என்பவர் வெளிநாட்டு வேலைவாய்ப்பின் மூலம் உழைத்த தனது பணத்தை முதலீடு செய்ததன் மூலம் உல்லாசப்பயணிகள் ஹோட்டல் ஒன்றைத் தொடங்கினார்
  - கமலினி என்பவர் தனது மரபு ரீதியான சில்லறை வியாபாரத்தை ஒரு சிறப்புச் சந்தையாக (Super Market) மாற்றியமைத்தார்
  - அனந்திகா என்பவர் தனது சொந்தப் பொருட்களை அடிப்படையாகக் கொண்டு துழுவலுக்கு நேசமான நுளம்புச்சுருள் களை உற்பத்தி செய்து விநியோகித்தார்
  - கார்த்திகா என்பவர் சூரிய சக்தியால் இயங்கும் மின்குமிழ்களுக்கான ஆக்கவுரிமையை வெளிநாட்டிலிருந்து பெற்று அவற்றை உள்ளூர் சந்தைக்காக உற்பத்தி செய்து விநியோகித்தார்.
- மேலே குறிப்பிட்டவர்களுள் ஒரு முயற்சியாண்மையாளராக எந்தபரை கருதமுடியும்? (2010 / B - II / 02)
1. அகிலன்                      2. தினுஷா                      3. கமலினி                      4. அனந்திகா                      5. கார்த்திகா                      (.....)
13. முயற்சியாண்மை அபிவிருத்தியின் மீது செல்வாக்கு செலுத்தும் ஒரு சமூகக்காரணி (2009 / B - II / 02)
1. வயது                      2. கல்வி                      3. அனுபவம்                      4. வகிபாக மாதிரிகள்                      5. அர்ப்பணிப்பு                      (.....)
14. பின்வருவனவற்றுள் இருந்து மிகவும் சரியான தொடர்பை தெரிவு செய்க (2009 / B - II / 01)
1. பிரச்சினை வாய்ப்பு கருத்து                      2. கருத்து பிரச்சினை வாய்ப்பு                      3. கருத்து வாய்ப்பு பிரச்சினை                      4. வாய்ப்பு கருத்து பிரச்சினை                      5. வாய்ப்பு பிரச்சினை கருத்து                      (.....)
15. முயற்சியாண்மையாளர் ஒருவரின் மிகவும் முக்கியமான சிறப்பியல்புகளில் ஒன்று (2008 / B - II / 01)
1. தொடர்பாடல்                      2. முகாமைத்துவம்                      3. அனுபவம்                      4. ஆர்வம் (Passion)                      5. கூட்டிணைப்பு (Coordination)                      (.....)
16. முயற்சியாண்மையாளர் ஒருவரின் பிரதான வகிபாகம் (2008 / B - II / 02)
1. உலகிற்குப் புதுமையைக் (Novel) கொண்டு வருதல்                      2. வளங்களை ஒன்று சேர்த்தல்                      3. இடரை (Risks) ஏற்றுக்கொள்ளல்                      4. ஆராய்ச்சியில் ஈடுபடல்                      5. உள்ளீடுகளை வெளியீடுகளாக மாற்றுதல்                      (.....)
17. பின்வருவனவற்றுள் எது முயற்சியாண்மை சார்ந்த ஒரு திறமையாகும்? (2007 / B - II / 01)
1. ஊக்கமும் சுறுசுறுப்பும் (diligent)                      2. சக்தியுடமை (energetic)                      3. நேர்மை (honest)                      4. பணிவு (polite)                      5. தொடர்பாடல் திறமை (Communicative)                      (.....)
18. முயற்சியாண்மையின் விருத்தியில் செல்வாக்குச் செலுத்தும் தனியாளுக்குரிய ஒரு காரணி (2007 / B - II / 02)
1. குடும்பம் (Family)                      2. அனுபவம் (Experience)                      3. கடமைப்பங்கு மாதிரிகள்                      4. தந்திரோபாயங்கள்                      5. முகாமைத்துவம்                      (.....)

**பொருத்தமான சொற்களைக் கொண்டு இடைவெளிகளை நிரப்புக**

19. முயற்சியாளரொருவர் பொதுவாக ----- நோக்கமாகக் கொண்டு வணிகத்தை ஆரம்பிப்பதுடன் , சமூகரீதியான முயற்சியாளரொருவர் ----- நோக்கமாகக் கொண்டு ஆரம்பிப்பார். 2019/32b

19. பின்வரும் கூற்றுக்கள் தொடர்பில் சரி, பிழையைக் குறிப்பிடுக (2016 / 34 / 02)  
இடர்களை எதிர்கொள்ளல் முயற்சியாண்மையின் ஒரு குணவியல்பாகும் ..... (சரி / பிழை)

(ஆ). முயற்சியாண்மையின் சில தேர்ச்சிகளாக (Competencies)

1. .... 2. ....  
3. .... 4. ....

(2013/33)

20. (அ). நபர் ஒருவர் எப்பொழுதும் ஒரே விதமான மனப்பான்மையுடன் சிந்தித்துச் செயற்படுவராயின் அது முயற்சியாண்மையின் முன்னேற்றத்திற்கு ஒரு அச்சுறுத்தலாக அமையும். இத்தனிப்பட்ட சிறப்பியல்பானது ..... என அழைக்கப்படும்

(ஆ). 'முன்மாதிரிகள், அனுபவங்கள், கல்வி, குடும்பம்' ஆகிய காரணிகளுள் தனிப்பட்ட காரணிகள் ..... என்பனவாகும் (2013/34)

21. (அ). வணிக நிறுவனமொன்றின் ஊழியர்களது ஆக்கத்திறனூடான உருவாகும் முயற்சியாண்மை ..... என அழைக்கப்படும்

22. சந்தைக்கு இழுக்கப்பட்ட (Pulled) முயற்சியாண்மையின் அடிப்படையில் பின்வரும் இடைவெளிகளை நிரப்புக (2011 / 35)



23. குடும்பம் மற்றும் வகிபாக மாதிரிகள் (role models) ஆகியவை முயற்சியாண்மையின் அபிவிருத்தி மீது செல்வாக்குச் செலுத்தும் ..... காரணிகள் ஆகும் (2010 / B - II / 21)

**பின்வரும் வினாக்களுக்கு மிகப்பொருத்தமான விடை எழுதுக**

24. வணிகமொன்றை ஆரம்பிப்பதற்கு முன்னர் சந்தை அளவையாய்வை (Survey) மேற்கொள்ளப்படும் போது கருத்திற்கொள்ள வேண்டிய நான்கு பிரதான காரணிகளை எழுதுக (2016 / 42)

1. ....
2. ....
3. ....
4. ....

25. (அ) பெறுமதியினை வழங்கும் ஏதேனும் ஒன்றைச் செய்வதற்கு ஆபத்துக்களை எதிர்கொள்ளத் தயாராக இருக்கும் நபர் ..... என அழைக்கப்படுவதுடன், தற்போது செயற்பட்டுக் கொண்டிருக்கின்ற வணிகமொன்றில் பணியாற்றிக் கொண்டு புதிய கண்டுபிடிப்புக்களை அறிமுகம் செய்து மாற்றங்களை ஏற்படுத்தும் நபர் ..... என அழைக்கப்படுவர்

(ஆ) ஏற்றுமதி அபிவிருத்தி சபையினால் சிறு வணிகங்களுக்கு வழங்கப்படும் வலுவூட்டல்களாக ..... மற்றும் ..... என்பவற்றைக் குறிப்பிடலாம் (2014 / 44)

26. (அ) பின்வருவனவற்றுள் ஒரு முயற்சியாண்மை சார்ந்த சிறப்பியல்புகளாகக் கருதப்படக்கூடிய சொற்களின் கீழ் கோடிடுக (2013/ 44)

- தொடர்பாடல்
- நம்பிக்கைகளும் பெறுமானங்களும்
- வாய்ப்புகளைத் தேடுபவர்
- உருவாக்கத்திறன்
- தன்னம்பிக்கை
- முகாமைத்துவம் கற்பனா சக்தி
- தலைமைத்துவம்
- கற்பனா சக்தி

**பகுதி- II**

01. அதிகளவான முயற்சியாளர்கள் நாட்டுக்குத் தேவையானவர்களாகக் காணப்படுகின்ற போதும் குறைவானவர்களே உருவாகின்றனர். முயற்சியாளர்களின் குறைவான உருவாக்கத்திற்கு ஏதுவான 4 காரணிகளைச் சுருக்கமாக விவரிக்கുക. (2018/BII/3-2)

.....  
 .....  
 .....  
 .....

02. ஒரு நாட்டின் அபிவிருத்திக்கு வணிகர்களிலும் பார்க்க முயற்சியாளர்களே ஜீவாதாரமானவர்கள் ஆவர். முயற்சியாளரையும் வணிகரையும் ஒப்பிடுவதன் மூலம் இக்கூற்றை விளக்குக (2017 / BII / 3 - 1)

03. அமலா என்பவர் சிறுபராயத்தில் இருந்தே ஒரு முயற்சியாளராக வரும் எண்ணத்தைக் கொண்டிருந்தார். எனினும் அவர் நிதிநீதியான வசதியைக் கொண்டிருக்காமையினால் ஓரளவு பெறுமதி வாய்ந்த கற்களைப் பயன்படுத்தி அலங்கார உருப்படிகளை உற்பத்தி செய்வதற்காக வரையறுத்த மூலதனத்துடன் வணிகமொன்றை ஆரம்பித்தார். அது தற்போது சிறப்பாக முன்னேறிச்செல்கிறது. இச்சம்பவத்தில் குறிப்பிடப்பட்டுள்ள முயற்சியாண்மை சார் பண்புகளை காரணங்களுடன் விபரிக்குக.

04. முயற்சியாண்மை ஒரு நாட்டின் அபிவிருத்திக்கு அத்தியாவசியமானதொரு காரணியாகும். இக்கருத்தை நான்கு உதாரணங்களைக் கொண்டு விளக்குக (2015 / 03 / I / அ)

05. 'ஒரு நாட்டின் பொருளாதார அபிவிருத்திக்கு முயற்சியாண்மை பங்களிப்புச் செய்கின்றது' உதாரணங்கள் தருவதன் மூலம் இக்கருத்தை விளக்குக (2016 / 02 / v)

06. முயற்சியாளர், முயற்சியாண்மை மற்றும் முயற்சி (Venture) ஆகியவற்றுக்கிடையே உள்ள தொடர்பை விளக்குக (2012 / 03 / I / அ)

07. முயற்சியாளர்கள் உருவாவதில் செல்வாக்குச் செலுத்தும் பின்புலக்காரணிகள் நான்கை விளக்குக

(2012 / 03 / I / ஆ)

08. சாதாரண வணிகருடன் ஒப்பிடும் போது முயற்சியாளர் ஒருவரில் நீர் காணக்கூடிய வேறுபாடுகள் எவை?

(2013 / 03 / i)

09. முயற்சியாண்மைத் திறன்கள் நான்கை விபரிக்குக

(2016 / 03 / I / ஆ)

10. முயற்சியாண்மையின் சில விசேட பண்புகள் (சிறப்பியல்புகள்) கீழே தரப்படுகின்றது

A – அபிலாசை (Ambitions)

B – சுயாதீனம் (Independent)

C – ஆர்வம் (Passionate)

D – தன்னம்பிக்கை (Self Confident)

E – தூரநோக்கு (Visionary)

F – நன்னோக்கு (Optimistic)

G – மக்கள் சார்ந்திருத்தல் (People oriented)

மேற்குறிப்பிட்டவற்றுள் ஏதாவது நான்கைத் தெரிவு செய்து அவற்றின் கருத்துக்களை விளக்குக

(2011 / 03 / ii)

11. சிறிபாலனின் தந்தை ஒரு வெற்றிகரமான வணிகராவார். சிறிபாலன் சில முயற்சியாண்மைத் திறன்களைக் கொண்டிருந்த போதிலும் முயற்சியாண்மை திறன்களை மேலும் மேம்படுத்துவதற்கு நடவடிக்கை எடுக்குமாறு அவரது தந்தை வலியுறுத்தினார். சிறிபாலனின் முயற்சியாண்மை திறன்களை மேம்படுத்துவதற்கான நான்கு வழிகளைக் குறிப்பிடுக

(2015 / 03 / I / ஆ)

12. பின்வரும் தகவல்களைப் பயன்படுத்தி கீழே தரப்பட்டுள்ள வினாக்களுக்கு விடையளிக்குக

வெற்றிகரமான முயற்சியாளனாக வரவேண்டும் என்பது சிந்துஜனின் கனவாக இருந்ததுடன் அவர் தனது 20ஆவது வயதில் ரூபா 50,000 ஐ முதலீட்டு ஜஸ்கீறம் வணிகத்தை ஆரம்பித்தார். ஆவர் தற்போது தனது வணிகம் தொடர்பில் தேவைப்படுகின்ற திறன்களையும் அனுபவத்தினையும் பெற்றுக்கொண்டிருப்பதுடன் சந்தையில் 5% பங்கினையும் கைப்பற்றியிருக்கின்றார். அவர் வணிகத்தில் மேற்கொண்ட புதுமைப் புகுதல்களும் குடும்ப அங்கத்தவர்கள், நண்பர்களிடம் இணைந்து உருவாக்கிக் கொண்டிருக்கும் தனிப்பட்ட வலைப்பின்னலும் அவரை வணிகத்தில் இந்துளவானதொரு வெற்றிக்கு இட்டுச்சென்றுள்ளது எனக் கருதுகின்றார். தற்போது அவர் தனது வியாபாரத்தை மேலும் விரிவுபடுத்தலாமா என எண்ணுகின்றார்.

1. தனது வணிகத்தை மேலும் வெற்றியடையச் செய்வதற்கு சிந்துஜனுக்கு தேவைப்படுகின்ற முயற்சியாண்மைத் தேர்ச்சிகள் எவை?

2. தனது வணிகத்தினை மேலும் வெற்றியடையச் செய்வதற்கு சிந்துஜனால் முன்னெடுக்கப்படக்கூடிய அடுத்த உபாயமாக நீங்கள் எதனை ஆலோசிக்கின்றீர்கள்? (2014 / 03 / I / ஆ)

13. 'முயற்சியாளர் என்பவர் வணிகத்தின் மீது வேலைசெய்ய வேண்டுமேயல்லாமல் அதற்குள் அல்ல' (An entrepreneur should work on the business not in it) இக் கூற்றினால் குறிப்பிடப்பட்டுள்ள கருத்தை ஆராய்க (2011 / 03 / i)

14. இலங்கையின் சமூகப்பொருளாதார மாற்றத்திற்கு சிறிய மற்றும் நடுத்தர வணிகங்களின் (SME) முக்கியத்துவத்தினை விளக்குக (2014 / 08 / i)

15. முயற்சியாளர்களுக்கு முயற்சியாண்மை மூலதனக் கம்பனியால் (Venture Capital Company) வழங்கப்படும் சேவைகளைக் குறிப்பிடுக (2014 / 03 / iii / ஆ)

## 06 சிற்றளவு வணிகங்கள்

### பகுதி – I

01. சிற்றளவு வணிகங்களை வரையறுப்பதற்கு பயன்படுத்தப்படும் ஒரு அளவு ரீதியான காரணி (2009 / B – II / 03)  
1. பயன்படுத்தப்படும் தொழிநுட்பம் 2. பயன்படுத்தப்பட்ட முகாமைத்துவ நுட்பம் 3. வணிகத்தின் தன்மை  
4. சந்தையின் தன்மை 5. உற்பத்தி ஆற்றல் (.....)

02. சிற்றளவு வணிகமொன்றினைச் சிறப்பாக வரைவிலக்கணப்படுத்துவது (2008 / B – II / 03)  
1. நிறுவனமொன்று தனியுடமையாளருக்குச் சொந்தமாக இருத்தல்



2. வணிகமானது கிரமாப்புறங்களில் அமைக்கப்பட்டிருத்தல்
3. கைத்தொழிலில் ஆதிக்கம் செலுத்தாததாக நிறுவனம் காணப்படல்
4. ஊழியர் செறிவுடையதாக வணிகம் காணப்படல்
5. சட்ட ஆளுமையற்றதாக காணப்படல்

(.....)

03. 'சுசுஹன்' கடன் திட்டத்தைத் தொழிற்படுத்தி வருவது யாது?

1. மக்கள் வங்கி
2. தேசிய அபிவிருத்தி வங்கி
3. இலங்கை மத்திய வங்கி
4. 'சனச' வங்கி
5. தேசிய சேமிப்பு வங்கி

(.....)

04. சிறிய மற்றும் நடுத்தர வணிகங்கள் ----- செறிவானவையாகக்

காணப்படுவதால் நபர்களுக்கு அதிகளவிலான ----- வழங்கிட முடியும்.2019/33/a

05. (அ). இலங்கையில் சிறியளவிலான வணிகங்களை வலுவூட்டுவதற்கான சேவைகளை வழங்கும் நிறுவனங்களுள் I.D.B என்ற சுருக்கப் பெயரினால் குறிப்பிடப்படும் நிறுவனம் ..... ஆவதுடன், S.L.B.D.C என்ற சுருக்கப்பெயரினால் குறிப்பிடப்படுவது ..... என்ற நிறுவனமாகும்

(ஆ). சிறிய மற்றும் நடுத்தர அளவுக் கைத்தொழிலாளர்களுக்கு நிதி உதவிகளை வழங்குவதற்காக அரசு ஈட்டு முதலீட்டு வங்கியும், கைத்தொழில் அபிவிருத்தி சபையும் இணைந்து செயற்படுத்தும் கடன்திட்டம் ..... என அழைக்கப்படும்

(2012 / 35)

06. அலங்கார வெட்டுப்பு வணிகமொன்றிற்காக அரசாங்கத்திடமிருந்து பெற்றுக்கொள்ளக்கூடிய இரண்டு சேவைகளையும் அவ்வாறான சேவைகளை வழங்கும் நிறுவனங்கள் இரண்டையும் தரப்பட்டுள்ள அட்ட வணையில் குறிப்பிடுக

(2015 / 42)

07. (அ). 'சுயாதீனமாகவும் சொந்தமாகவும் உருவாக்கிச் செயற்படுத்தக்கூடியதும் அதனது துறைவாரியான செயற்பாட்டில்

சேவைகள்	நிறுவனங்கள்
1. ....	.....
2. ....	.....

08.மேலாதிக்கம் செலுத்த முடியாததுமான ஒன்று சிற்றளவு வணிகமாகும்' மேற்கூறப்பட்ட வரைவிலக்கணம் எந்த நிறுவனத்தினூடாக முன்வைக்கப்பட்டது?

(ஆ). இலங்கையின் பொருளாதார அபிவிருத்திக்கு சிற்றளவு வணிகங்களின் நான்கு பிரதான பங்களிப்புக்களைக் குறிப்பிடுக

1. ....
2. ....
3. ....
4. ....

09. இலங்கை ஏற்றுமதி அபிவிருத்திச் சபையின் குறிக்கோள்கள் நான்கினைக் குறிப்பிடுக? 2019/42

- .....
- .....
- .....
- .....

10. இலங்கையில் சிறிய மற்றும் நடுத்தர அளவு வணிகங்கள் தோல்வியடைவதில் செல்வாக்குச் செலுத்தும் காரணங்கள் நான்கினைத் தருக? 2019/43

- .....
- .....
- .....
- .....

11. 'சிற்றளவு வணிகங்களாக அடையாளம் காண்பதற்குப் பயன்படுத்தும் நியதிகளுடன் (Criteria) தொடர்புபட்ட வகையில் சிற்றளவு வணிகங்களில் காணக்கூடிய நான்கு சிறப்பியல்புகளைக் குறிப்பிடுக?

1. ....
2. ....
3. ....
4. ....

(2011 / 44)

12. SMED இற்கான நிதியத்தை ஏற்பாடு செய்துள்ள வெளிநாட்டு முகவராண்மை எது? (2010 / B – II / 31)

.....

13. சிற்றளவு வணிகங்களின் வெற்றிக்காக அரசாங்கத்தினால் / ஏனைய நிறுவனங்களினால் வழங்கப்படும் நான்கு வகையான சேவைகளைத் தருக (2015/ 43)

1. ....
2. ....
3. ....
4. ....

14. சிற்றளவு வணிகங்களுக்காக அரசாங்கத்தால் வழங்கப்படும் நிதிசாரா ஊக்குவிப்புக்கள் நான்கு தருக (2017 / B1 / 42)

1. ....
2. ....
3. ....
4. ....

## பகுதி – II

01. சியாமளா என்பவர் தமது பிரதேசத்தில் தாராளமாகக் கிடைக்கக்கூடிய வாழை நாரிழைகளைக் கொண்டு பெண்களுக்கான கைப்பைகள், தொப்பி, வேறு அலங்காரப் பொருட்கள் ஆகியவற்றை உற்பத்தி செய்யக்கூடிய நிறுவனமொன்றை ரூபா 50,000 முதலிட்டுத் தொடங்கியதுடன், அப்பிரதேசத்தில் வசிக்கும் வேலைவாய்ப்பற்ற பெண்கள் மூவரைத் தெரிவுசெய்து இவ்வற்பத்திகள் தொடர்பான பயிற்சிகளை வழங்கி நாளொன்றிற்கு ரூபா 800 இனைக் கொடுப்பனவாகச் செலுத்தும் அடிப்படையில் சேவையில் ஈடுபடுத்திக் கொண்டார். அத்துடன் தனது உற்பத்திகளை உல்லாசப்பயண ஹோட்டல்களில் சந்தைப்படுத்துவதற்கான நடவடிக்கைகளையும் மேற்கொண்டுள்ளார். இவ்விடய ஆய்வில் காணப்படும் சமூக பொருளாதார நன்மைகளைத் தருக. 2019/3-ii

- .....
- .....
- .....
- .....

(iii) பாரிய நிறுவனங்களாவதன் மூலம் கிடைக்கும் அனுகூலங்களைக் கருத்திற் கொள்ளாது சில நிறுவனங்கள் சிறு வணிகங்களாவே நடாத்திச் செல்ல விரும்புகின்றமைக்கான காரணங்கள் நான்கினை விவரிக்குக. 2019/3-iii

- .....
- .....
- .....
- .....

02. உமது நண்பர் ஒருவர் வேலை செய்வதற்குப் பதிலாக தனது சொந்த வணிகத்தினை ஆரம்பிக்க விரும்புகிறார். எனினும் இது தொடர்பில் அவரிடம் தயக்கமும் காணப்படுகின்றது. வேலை செய்வதிலும் பார்க்க வணிகம் ஒன்றை ஆரம்பிப்பதன் அனுகூலங்களை அவருக்கு விளக்குவதற்காக 4 காரணிகளைக் குறிப்பிடுக. (2018/BII/3-1)

03. பலநாடுகளில்,பாரியளவு நிறுவனங்களிலும் பார்க்க அதிக எண்ணிக்கையான சிறிய மற்றும் நடுத்தர அளவு முயற்சிகள் சிறந்து விளங்குகின்றன. அவ்வாறான அதிகரிப்பிற்குக் காரணமான சிறிய மற்றும் நடுத்தர அளவு முயற்சிகளுக்கு உரித்துடைய இயல்பான குணாம்சங்கள் 4 தருக. (2018/BII/3-3)

04. பேரளவு வணிகங்களை ஆரம்பிப்பதிலும் பார்க்க ஏன் சிற்றளவு வணிகங்களான ஆரம்பிப்பதில் மக்கள் அதிகளவு ஆர்வம் காட்டுகின்றனர். என்பதனை நான்கு காரணங்களைக் கொண்டு விளக்குக (2015 / 03 / III)

05. சிறிய வணிகம் ஒன்றை ஆரம்பிக்கும் போது கவனம் செலுத்த வேண்டிய விடயங்கள் யாவை? (2014 / 03 / i)

06. 'பெருமளவிலான சிற்றளவு வணிகங்கள் மிகவும் குறுகிய காலத்தில் தோல்வியடைகின்றன' சிற்றளவு வணிகங்கள் தோல்வியடைவதற்கான நான்கு காரணங்களைத் தருவதன் மூலம் இக்கருத்தை விளக்குக (2016)

07. கடுமையான போட்டி ஒன்றினை அனுபவிக்கும் ஒரு சிறிய அளவிலான வியாபாரி வாடிக்கையாளர்களை கவர்வதற்கு பயன்படுத்தக்கூடிய 04 தந்திரோபாயங்களைக் குறிப்பிடுக (2015 / 03/iii/ஆ)

08. சிற்றளவு வணிகங்களின் அபிவிருத்தியை முன்னேற்றுவதற்கு பெரும்பாலான நாடுகளின் அரசாங்கங்கள் மிகவும் அக்

கறையுடையனவாக காணப்படுகின்றன. இலங்கையின் பொருளாதாரத்தைக் கருத்திற்கொண்டு இதற்கான காரணங்களை விளக்குக (2013 / 03 / ii)

09. 2012ஆம் ஆண்டுக்கான அரசாங்கத்தின் வரவு – செலவுத்திட்டத்தின் மூலம் சிறிய, நடுத்தர வணிகங்களின் அபிவிருத்திக்காக பிரேரிக்கப்பட்ட நடவடிக்கைகளை பரிசீலிக்குக (2012 / 03 / ii)

## 07. நிதி மற்றும் நிதி நிறுவனங்கள்

### பகுதி – I

பின்வரும் வினாக்கள் ஒவ்வொன்றுக்கும் மிகவும் பொருத்தமான விடையைத் தெரிவு செய்க

01. அலகுப் பொறுப்பாட்சிகளில் முதலிடுவதன் மூலமாக முதலீட்டாளருக்குக் கிடைக்கும்

அனுகூலமாவது,

2019/12

(1) முதலீட்டின் மீதான அதிக வருவாய்

(2) அலகுப் பொறுப்பாட்சி முகாமைத்துவத்தில் பங்குபற்றக்கூடிய தன்மை

(3) உபகாரப் பங்குகளைப் பெறக்கூடிய உரித்துடமை

(4) முதலிடப்பட்ட பணத்தை எவ்வித தண்டப்பணமுமின்றி எந்தவொரு சந்தர்ப்பத்திலும் மீளப்பெறக்கூடிய தன்மை

(5) முதலீட்டு வருவாய்க்கெதிரான வருமானவரியைச் செலுத்த வேண்டியதில்லை ( )

02. காசோலை குறுக்குக் கோடிலுடன் தொடர்புடைய சரியான கூற்று யாது?

2019/13

(1) முதலீட்டின் மீதான அதிக வருவாய்

(2) பெறுநரினால், தமது கையொப்பத்தினை இட்டு காசோலையிலுள்ள குறுக்குக் கோடிலை இரத்துச் செய்ய முடியும்

(3) குறுக்குக் கோடிடப்பட்ட சகல காசோலைகளையும் புறக்குறிப்பிடுவதனுடாக வேறொருவருக்குச் சாட்டுதல் செய்ய முடியும்

(4) குறுக்குக் கோடிடப்பட்ட சகல காசோலைகளையும் வங்கிக் கருமபீடங்களில் சமர்ப்பித்து காசாக்கிக் கொள்ள முடியும்

(5) பணக்காசோலைகளைக் (Cash Cheque) குறுக்குக்கோடிட முடியாது ( )

03. பின்வருவனவற்றுள் வைப்புக்களை ஏற்கமுடியாத நிறுவனம் எது?

1. நம்பிக்கை அலகுகள்

2. உரிமம் பெற்ற நிதிக்கம்பனிகள்

3. உரிமம் பெற்ற சிறப்பு வங்கி

4. பிராந்திய அபிவிருத்தி வங்கி

5. உரிமம் பெற்ற வணிக வங்கிகள்

( )

(2017 / B1 / 10)

04. பின்வருவனவற்றுள் மத்திய வங்கியின் நேரடி மேற்பார்வையாளர் கீழ்வரும் நிறுவனவகைகளின் எண்ணிக்கை யாது?

A – உரிமம் பெற்ற வணிகவங்கி

B – உரிமம் பெற்ற சிறப்பு வங்கி

C – உரிமம் பெற்ற நிதிக்கம்பனிகள்

D – கூட்டுறவுக் கிராமிய வங்கிகள்

E – சிக்கன கடன் கூட்டுறவுச்சங்கம்

1. 1

2. 2

3. 3

4. 4

5. 5 ( )

(2017 / B1 / 11)

05. பின்வருவன இலத்திரனியல் அடிப்படை ஒன்றில் குறிப்பிடப்பட்டுள்ள சில தகவல்கள் ஆகும்

- A - கடனட்டைச்சங்கத்தின் இலச்சினை
- B - கடனட்டை இலக்கம்
- C - காந்தமைப்பட்டி
- D - அட்டை உரிமையாளர் பெயர்
- E - அவசர தொலைபேசி இலக்கம்
- F - காலாவதியாகும் திகதி
- G - கையெழுத்துப்பட்டி

மேலே கூறப்பட்டவற்றில் இலத்திரனியல் அட்டையின் முகப்பில் காணப்படும் விடயங்களை மட்டும் கொண்டுள்ள தொகுதியைத் தெரிவு செய்க

1. ABEF                      2. ABDF                      3. BCEG                      4. CEFG                      5. DEFG                      ( )

(2017 / B1 /12)

06. தன்னியக்க வங்கிச்சேவைகளின் (Automated Banking Services) மூலம் வங்கிக்கு மட்டும் கிடைக்கக் கூடிய அனுகூலம்

1. நேரத்தை சேமிக்க முடிதல்
2. சேவை விரிவாக்கத்தின் மூலம் அதிக இலாபத்தை உழைக்கக் கூடியதாக இருத்தல்
3. பட்டியல் கொடுப்பனவுகளை இலகுவாகச் செலுத்தக்கூடியதாக இருத்தல்
4. கணக்குகள் தொடர்பான தகவல்களை இலகுவாக பெறக்கூடியதாக இருத்தல்
5. கணக்குகளிடையே நிதிகளை மாற்றக்கூடியதாக இருத்தல்

(.....)

07. நாடுகளையும் நாணயங்களையும் கொண்ட பட்டியல் ஒன்று கீழே தரப்பட்டுள்ளது

நாடு	நாணயம்
A - இத்தாலி	1. வொன்
B - அவுஸ்ரேலியா	2. டொலர்
C - தென்கொரியா	3. றிங்கிற்
D - மலேசியா	4. யூரோ

நாடு மற்றும் அதன் நாணயம் தொடர்பில் சரியாக பொருந்துகின்ற தொகுதியைத் தெரிவு செய்க

1. A - 1, B - 2, C - 3, D - 4                      2. A - 2, B - 1, C - 3, D - 4                      3. A - 3, B - 2, C - 1, D - 4  
4. A - 4, B - 2, C - 1, D - 3                      5. A - 4, B - 2, C - 3, D - 1                      (.....)

08. இலங்கை மத்திய வங்கியின் சில தொழிற்பாடுகள் கீழே தரப்படுகின்றன

- A - நிதிக்கொள்கைகளைப் பேணுதல்
- B - அரசு கடனை முகாமை செய்தல்
- C - அந்நியச் செலாவணியைக் கட்டுப்படுத்துதல்
- D - அரசாங்கத்தின் பொருளாதார அறிவுரைஞராகத் தொழிற்படுதல்
- E - ஊழியர் சேமலாப நிதியத்தை முகாமை செய்தல்
- F - பிராந்திய அபிவிருத்திக்கான நுண்நிதி போன்ற நிகழ்ச்சித் திட்டங்களை கூட்டிணைத்தல்

மேலே தரப்பட்ட தொழிற்பாடுகளுள் இலங்கை மத்திய வங்கியின் நிறுவக முகவரான்மைத் தொழிற்பாடுகளை உள்ளடக்கிய தொகுதியை தெரிவு செய்க

(2015 /

14)

1. A,B,C,D                      2. A,B,D,F                      3. A,B,E,F                      4. B,C,D,E                      5. B,C,E,F                      (.....)

09. A - சட்டப்பணம்

B - வங்கிப்பணம்

C - கறுப்புப்பணம்

D - அண்மிய பணம்

E - இலத்திரனியல் பணம்

E - கடன் பணம்

மேற்குறிப்பிடப்பட்டவற்றுள் இலங்கையில் பயன்படுத்தப்படும் பண வகைகளை கொண்ட தொகுதியினை தெரிவு செய்க

(2014 / 09)

1. A,B,C,D                      2. A,B,D,E                      3. A,B,D,F                      4. B,C,D,E                      5. C,D,E,F                      (.....)



4. இலங்கை மத்திய வங்கியால் வெளியிடப்பட்டுள்ள தாள் மற்றும் குற்றி நாணயங்கள்  
5. பரிமாற்று ஊடகமாகவும் பெறுமானத்தை அளவிடும் கருவியாகவும் பெறுமானத்திரட்டாகவும் தொழிற்படும் எவையும்  
(.....)

17. பின்வரும் அட்டவணையில் X நிரலானது பிரதான நிதி நிறுவனங்களையும் Y நிரலானது நிதி நிறுவனங்களுக்கான சில பெயர்களையும் தருகின்றது

X	Y
A – உரிமம் பெற்ற வணிக வங்கிகள்	1. தேசிய அபிவிருத்தி வங்கி
B – உரிமம் பெற்ற சிறப்பு வங்கிகள்	2. ராஜரட்டை அபிவிருத்தி வங்கி
C – பதிவு செய்யப்பட்ட நிதிக்கம்பனிகள்	3. ஸ்ரான்டட் சார்ட்டர் வங்கி
	4. தேசிய சேமிப்பு வங்கி
	5. வரையறுத்த L.B பினான்ஸ்
	6. சனச அபிவிருத்தி வங்கி
	7. வரையறுத்த மேக்கன்ரைல் இன்வஸ்ட்மென்ட்
	8. மக்கள் வங்கி
	9. வரையறுத்த கொமேர்சல் கிரெடிட்

X.Y தொடர்பில் சரியான இணைப்பைக் காட்டும் தொகுதி எது? (2011 / 11)

1. A – 1,2,5 / B – 3,4,7 / C – 6,8,9      2. A – 1,3,8 / B – 2,4,6 / C – 5,7,9      3. A – 2,3,8 / B – 4,6,9 / C – 1,5,7  
4. A – 4,6,8 / B – 2,5,7 / C – 1,3,9      5. A – 2,4,8 / B – 1,3,6 / C – 5,7,9  
(.....)

18. கீழே தரப்பட்டுள்ள அட்டவணையில் A ஆனது சில வெளிநாட்டு நாணயங்களை எடுத்துக்காட்டுவதுடன் B அவற்றுக்கான இலங்கை ரூபாவின் பரிமாற்று வீதத்தை எடுத்துக்காட்டுகின்றது

A	B
A – டொலர் (ஐக்கிய அமெரிக்கா)	1. ரூபா 144.05
B – பவுன்ஸ் (இங்கிலாந்து)	2. ரூபா 114.50
C – யூரோ (ஐரோப்பிய சமூகம்)	3. ரூபா 173.72
D – யென் (ஜப்பான்)	4. ரூபா 1.26

A யில் உள்ள வெளிநாட்டு நாணயங்களுக்கும் B யில் உள்ள இலங்கை ரூபாவின் பரிமாற்றி வீதத்திற்கும் இடையேயுள்ள சரியான இணைப்பை எந்த தொகுதி காட்டுகின்றது? (2010 / B I / 10)

1. A – 1, B – 2, C – 3, D – 4      2. A – 2, B – 3, C – 1, D – 4      3. A – 3, B – 1, C – 2, D – 4  
4. A – 1, B – 3, C – 2, D – 4      5. A – 2, B – 3, C – 4, D – 1  
(.....)

19. பொதுமக்களிடமிருந்து வைப்புக்களை ஏற்றுக்கொள்வதற்கு அதிகாரமளிக்கப்பட்டுள்ள நிறுவனங்களை மட்டும் உள்ளடக்கியுள்ள தொகுதியை தெரிவு செய்க (2010 / B – I / 11)

1. வியாபார வங்கிகள், குத்தகைக்கம்பனிகள், பதிவு செய்யப்பட்ட நிதிக்கம்பனிகள்  
2. உரிமம் பெற்ற சிறப்பு வங்கிகள், உரிமம் பெற்ற வணிக வங்கிகள், பதிவு செய்யப்பட்ட நிதிக்கம்பனிகள்  
3. கூட்டுறவுச் சங்கங்கள், அலகு பொறுப்பாட்சி நிறுவனங்கள், காப்புறுதி நிறுவனங்கள்  
4. வியாபார வங்கிகள், அலகு பொறுப்பாட்சி நிறுவனங்கள், குத்தகை கம்பனிகள்  
5. கூட்டுறவு சங்கங்கள், வியாபார வங்கிகள், அலகு பொறுப்பாட்சி நிறுவனங்கள்  
(.....)

20. பின்வருவனவற்றுள் இலத்திரனியல் பணம் ஒன்றாகக் கருதப்பட முடியாதது எது? (2010 / B – I / 12)

1. VISA கடனட்டை      2. MASTER கடனட்டை      3. வரவு அட்டை (Debit card)  
4. ATM அட்டை      5. SMART அட்டை  
(.....)

21. இலங்கை மத்திய வங்கியால் வெளியிடப்படும் தாள் உலோக நாணயங்கள் அழைக்கப்படுவது (2009 / B – I / 10)

1. வரையறுத்த சட்ட அங்கீகார பணம்      2. வரையறுத்த சட்ட அங்கீகார பணம்      3. கிட்டிய பணம்  
4. சட்டப்பணம் (Fat money)      5. நிறைவான பணம் (Perfect Money)  
(.....)

22. பொது மக்களிடம் இருந்து வைப்புக்களை ஏற்றுக்கொள்வதற்கு மத்திய வங்கியால் அனுமதி வழங்கப்பட்ட நிறுவகம் எது? (2009 / B – I / 11)

1. வியாபார வங்கி      2. குத்தகைக்கம்பனி      3. பதிவு செய்யப்பட்ட நிதிக்கம்பனி  
4. அலகு பொறுப்பாட்சி நிறுவனம்      5. காப்புறுதிக்கம்பனி  
(.....)

23. சட்ட ரீதியாகக் கைமாற்றத்தக்க சாதனம் ஒன்று

1. பரிமாற்று உண்டியல்
  2. பங்கு ஆணைப்பத்திரம்
  3. பங்கிலாப ஆணைப்பத்திரம்
  4. வங்கியாணை
  5. காசுக்கட்டளை
- (.....)

24. காசோலை ஒன்றுடன் சம்பந்தப்பட்ட விதத்தில் சரியான கூற்றை தெரிவு செய்க (2009 / B – I / 14)

1. காசோலையை வரைபவர் எப்போதும் வங்கியாளரே ஆவார்
  2. பொது குறுக்குக்கோடிட்ட காசோலைக்கு கருமபீடத்தில் பணத்தை பெற முடியும்
  3. 'கைமாற்றத்தகாத' (Not Negotiable) என்ற பதத்துடன் குறுக்குக்கோடிட்ட ஒரு காசோலையை கைமாற்றம் செய்ய முடியாது
  4. காவியின் காசோலை ஒன்றைக் கைமாற்றம் செய்யும் போது புறக்குறிப்பிடதல் அவசியமில்லை
  5. காசோலை ஒன்றுக்கு வரைபவர் மட்டுமே குறுக்குக்கோடிட்ட முடியும்
- (.....)

25. தற்போது இலங்கையில் பாவனையில் உள்ள ரூபாய்த் தாள்கள் எத்தனை?

1. 6
  2. 7
  3. 8
  4. 9
  5. 10
- (.....)

26. பின்வருவனவற்றுள் ஒரு உரிமம் பெற்ற வணிக வங்கி (Licensed Commercial Bank) எது? (2008 / B – I / 11)

1. தேசிய சேமிப்பு வங்கி
  2. வரையறுத்த தேசிய சேமிப்பு வங்கி
  3. அரசு ஈட்டு முதலீட்டு வங்கி
  4. DFCC வங்கி
  5. வரையறுத்த சனச அபிவிருத்தி வங்கி
- (.....)

27. காசோலை மூலம் கொடுப்பனவு செய்வதைப் போன்று ஏறக்குறைய அதே மாதிரியான மின்னியல் பணக்கொடுப்பனவு (Electronic Money Payment) (2008 / B-I/ 13)

1. கடன் அட்டை (Credit Card)
  2. வரவு அட்டை (Debit card)
  3. தன்னியக்க ரெலர் இயந்திர அட்டை (ATM card)
  4. ஸ்மாட் அட்டை (Smart card)
  5. முற்செலுத்திய அட்டை (Prepaid card)
- (.....)

28. பின்வருவனவற்றுள் எது வரையறையற்ற சட்ட அங்கீகாரப் பணமாகும் (2007 / B – I / 11)

1. இருபத்தைந்து சத உலோக நாணயம்
  2. ஒரு ரூபாய் உலோக நாணயம்
  3. ஐந்து ரூபாய் உலோக நாணயம்
  4. பத்து ரூபாய் உலோக நாணயம்
  5. பத்து ரூபாய் நாணயத்தாள்
- (.....)

29. பின்வருவனவற்றுள் எது அனுமதிப்பத்திரம் பெற்ற ஒரு சிறப்பு வங்கியாகும் (2007 / B – I 12)

1. தேசிய சேமிப்பு வங்கி
  2. DFCC வங்கி
  3. தேசிய அபிவிருத்தி வங்கி
  4. நேசன்ட் ட்ரஸ்ட் வங்கி (Nations Trust Bank)
  5. நிதிக்கம்பனி
- (.....)

30. காசோலையொன்றின் MICR (Magnetic Ink Character Recongnition) கோட்டில் பின்வரும் தகவல்களுள் எது குறிப்பிடப்படும் (2007 / B – I / 13)

1. திகதி
  2. தொகை
  3. வரைவோன் கையொப்பம்
  4. பணம் பெறுபவர் பெயர்
  5. வரைவோன் கணக்கு இலக்கம்
- (.....)

### வாருத்தமான சொற்களைக் கொண்டு இடைவெளிகளை நிரப்புக

31. அ. காசோலை ஒன்று தொடர்பில் நடைமுறைக் கணக்கை வைத்திருப்பவர் ..... எனப்படும். அதேவேளை காசோலையின் மீது எவருடைய பெயர் எழுதப்படுகின்றதோ அந்நபர் ..... ஆவார்

ஆ. குறுங்கால (தற்காலிக) மேலதிகப்பற்று வசதிகளை ..... பிணையின் மூலம் பெற்றுக் கொள்ளமுடிவதுடன் நீண்டகால (நிரந்தர) மேலதிகப்பற்று வசதிகளை ..... பிணையின் மூலம் பெற்றுக்கொள்ள முடியும் (2016 / 35)

32. அ. நிதி நிறுவனங்களின் வகைப்படுத்தலின் படி ஊழியர் நம்பிக்கை நிதியம் ஒரு ..... சேமிப்பு நிறுவனமாகக் காணப்படும். அதேவேளை முயற்சி மூலதனக்கம்பனிகள் (Venture Capital Companies) ..... நிதி நிறுவனங்களாகக் காணப்படும்



ஆ. இலத்திரனியல் பணக்கொடுக்கல் வாங்கல்களை மேற்கொள்ளும் போது அட்டை உரிமையாளர், வணிகர்  
 ..... மற்றும் ..... ஆகிய தரப்பினர் சம்பந்தப்படுவவர்  
 (2016 / 36)

33. ஆ. இலங்கையில் உள்ள விசேட நிதி நிறுவனங்கள் இரண்டாக ..... , .....  
 ..... ஆகியவற்றைக் குறிப்பிடலாம்

ஆ. தனது வாடிக்கையாளர்களின் பெறுமதிமிக்க பொருட்களையும், முக்கிய ஆவணங்களையும் பாதுகாப்பதற்காக  
 வர்த்தக வங்கியொன்றினால் வழங்கப்படும் சேவை ..... எனப்படும் (2014 / 34)

34. ஆ. இலங்கையில் காணப்படும் இரண்டு கடன் தரப்படுதல் (Credit Rating) கம்பனிகள் .....  
 உம் ..... உம் ஆகும்

ஆ. வங்கிகளுக்கிடையிலான காசோலை தீர்ப்பளவு நடவடிக்கைகள் ..... இனால் நடை  
 முறைப்படுத்தப்பகின்றது (2013 / 35)

35. ஆ. ATM அட்டையை அதற்கான தன்னியக்க டொலர் இயந்திரத்தினுள் உட்செலுத்திய பின் ஒரு கொடுக்கல் வாங்  
 குதலை மேற்கொள்ள வேண்டுமெனின் அதற்கான ..... பதிவு செய்தல் தேவையான  
 தாகும்

ஆ. தற்போது உலகளாவிய ரீதியில் மிகவும் பிரசித்தி பெற்ற இருவகைக்கடன் அட்டைகளாவன .....  
 உம் ..... உம் ஆகும் (2012 / 36)

36. காசோலைகள் மூலம் கொடுப்பனவைச் செய்யும் போது அதற்குரிய கணக்கு வைத்திருப்பவரின் கையொப்பம் அவசிய  
 மாகும். ஆனால் வரவு அட்டை மூலம் கொடுப்பனவு செய்யும் போது அதற்குரிய கணக்கு வைத்திருப்பவரின் .....  
 ..... அவசியமாகும் (2010 / B - I / 27)

37. குத்தகை உடன்படிக்கையின் போது பராமரித்தல், சேவை போன்றவற்றின் பொறுப்புக்கள் குத்தகைக் கம்பனிகளாலேயே  
 ஏற்றுக்கொள்ளப்படல் ..... என அழைக்கப்படுகின்றன (2009 / B - I / 28)

38. அதேநேர மொத்த தீர்ப்பளவு முறைமை (RTGSS) பத்திரங்களற்ற பிணையங்கள் வைப்பக முறைமை (SSDS) ஆகியன  
 பொதுவாக ..... என அழைக்கப்படுகின்றன (2008 / B - I / 27)

**பின்வரும் வினாக்களுக்கு பொருத்தமான விடை எழுதுக**

39. இலங்கையிலுள்ள உரிமம் (உத்தரவுப்பத்திரம்) பெற்ற விசேட வங்கிகளுக்கு நான்கு உதாரணம்  
 தருக?

2019/44

- .....
- .....
- .....
- .....

40. பொருளாதாரத்தில் பண நிரம்பலை கட்டுப்படுத்துவதற்கு இலங்கை மத்திய வங்கியினால் பயன்படுத்தப்படும் நான்கு  
 முறைகளைக் குறிப்பிடுக?

- |         |         |
|---------|---------|
| 1. .... | 2. .... |
| 3. .... | 4. .... |

41. ஆ. ஒப்பந்த சேமிப்பு நிறுவனங்கள் இரண்டு தருக

- |         |         |
|---------|---------|
| 1. .... | 2. .... |
|---------|---------|

ஆ. இலத்திரனியல் பணக்கைப்பையைப் (e - wallet) பயன்படுத்துவதன் இரண்டு அனுசூலங்களைத் தருக  
 (2015 / 46)

.....  
 .....

42. கடனட்டைக் கொடுக்கல் வாங்கல்களில் நான்கு தரப்பினர் சம்பந்தப்பட்டுள்ளனர். அந்நான்கு தரப்பினரையும் குறிப்பிடுக? (2013 / 45)

1. ....  
3 .....

2. ....  
4. ....

43. இலத்திரனியல் வங்கியின் (e – banking) வழிமுறைகள் மூன்றைக் குறிப்பிடுக (2011 / 45)

.....  
.....  
.....

44. இணையத்தள மூலமாக கொள்வனவு செய்தலின் போது (online purchasing) பயன்படுத்தப்படும் கொடுப்பனவு முறை (Mode of payment) எது?

.....

45. இன்று உலகப்பிரசித்தி பெற்ற கடன் அட்டைகள் எவை? (இரண்டை மாத்திரம் எழுதுக) (2009 / BI / 36)

1. ....

2. ....

46. இலங்கை பொதுக்கடன்களை (Public Dept) முகாமைத்துவம் செய்வதற்கு பொறுப்பாக உள்ள நிறுவகம் எது? (2009 / B – I / 37)

.....

47. இலங்கை மத்திய வங்கியின் பிரதான குறிக்கோள்கள் இரண்டைப் பெயரிடுக (2008 / B – I / 37)

1. ....

2. ....

48. இலங்கை மத்திய வங்கியின் முதலாவது ஆளுநரின் பெயர் யாது? (2007 / B – I / 33)

.....

49. நிதி திரட்டுவதில் உரிமையை மாற்றாமல் குத்தகைக்கு எடுத்தவர் ஆதனத்தைப் பயன்படுத்துவதற்கு ..... குத்தகை அனுமதிப்பதுடன் இடங்கள் மற்றும் திரும்பல்களை மாற்றக்கூடியதாகவும் குத்தகைக்கு எடுத்தவர் பயன்படுத்துவதற்கு ..... குத்தகை அனுமதிக்கின்றது

## பகுதி – II

01. இலத்திரனியல் பணப்பையைப்(E-Wallet) பயன்படுத்தி செல்லிடத் தொலைபேசியினூடாகக் கொடுப்பனவை மேற்கொள்வதற்காக நபரொருவர் பூர்த்தி செய்திருக்க வேண்டிய அடிப்படைத் தேவைப்பாடுகள் இரண்டினைத் தருக? 2019/3-iii-b

▪ .....  
▪ .....

02.லக்ஷ்மி என்பவர் முறைசார்ந்த மூலகங்களிலிருந்து நிதியைப் பெற்று தமது பிரதேசத்தின் பால் உற்பத்திகளைக் கொள்வனவு செய்து விற்பனை செய்யும் நிறுவனமொன்றினை ஆரம்பிக்க எண்ணுகிறார். முறைசாராத நிதிமூலங்களை விட முறைசார்ந்த நிதிமூலங்கள் ஊடாக லக்ஷ்மிக்குக் கிடைக்கும் அனுகூலங்கள் நான்கினை விபரிக்குக. 2019/3-iv

▪ .....  
▪ .....  
▪ .....  
▪ .....

(ii) (அ) 'காவியின் காசோலை' அனை 'கட்டளைக் காசோலை' உடன் ஒப்பிடுக.

▪ .....  
▪ .....

▪ -----  
▪ -----  
(ஆ) “இலத்திரனியல் கொடுப்பனவு முறைமைகள்” என்பதனால் கருதப்படுவது யாது? 2019/3-v  
▪ -----  
▪ -----  
▪ -----  
▪ -----

03. “இலத்திரனியல் பணத்தைப் பயன்படுத்துவதில் சில அனுகூலங்களும் பிரதிகூலங்களும் காணப்படுகின்றன.”  
இலத்திரனியல் பணப் பயன்பாட்டின் 2 அனுகூலங்களையும் 2 பிரதிகூலங்களையும் எடுத்துக்காட்டுவதன் மூலம்  
இக்கூற்றை நியாயப்படுத்துக. (2018/BII/3-5)

02. “பொதுவாக ஏற்றுக்கொள்ளப்பட்டது” என்பது சிறந்த பணத்தின் ஒரு சிறப்பு இயல்பாகும். ஆனால் பணமானது பொது  
வாக ஏற்றுக்கொள்ளப்பட வேண்டுமாயின் வேறு சில சிறப்பியல்புகளையும் நிறைவேற்ற வேண்டியுள்ளது. அவ்வாறான  
சிறப்பியல்புகள் 4ஐ குறிப்பிடுக (2012 / 03 / iii / அ)

03. இலங்கையின் தாள் நாணயங்களையும், குற்றி நாணயங்களையும் கருத்திற்கொண்டு ஒரு சிறந்த பணத்தின் சிறப்பியல்பு  
களை விளக்குக (2010 / B - I / 02 / ii)

04. பின்வரும் பணவகைகளை விளக்குக  
1. கடன் பணம் 2. சட்டப்பணம் (2012 / 03 / iii / ஆ)

05. உரிமம் பெற்ற விசேட வங்கிகளுக்கு அனுமதி வழங்கப்படாத வணிக நடவடிக்கைகள் யாவை?  
(2014 / 03 / ii / ஆ / 02)

06. வணிக அபிவிருத்திக்காக வித்தியாசமான பல சேவைகளை நிதிக் கம்பனிகள் வழங்குகின்றன. வணிகங்களுக்கு நிதிக் கம்பனினால் வழங்கப்படும் 4 சேவைகளை விபரிக்குக. (2018/BII/3-4)

07. குத்தகைக்கம்பனிகளால் வணிகர்களுக்கு கிடைக்கும் நன்மைகளைக் குறிப்பிடுக (2014 / 03 / iii / ஆ)

08. 'வணிகவங்கி ஒன்றிலிருந்து கூட்டுறவுக் கிராமிய வங்கி வேறுப்படமாட்டாது' இக்கூற்றுடன் நீர் இணங்குகின்றீரா? உமது விடைக்கான காரணத்தைத் தருக? (2015 / 03 / v / அ)

09. நிதித்தேவை தொடர்பான சேவைகளை நிறைவேற்றுவதற்காக அரசு மற்றும் தனியார் வங்கிகள் காணப்படுகின்ற போதிலும் வேறு நிதி நிறுவனங்களினாலும் பரந்தப்பட்ட அளவில் அச்சேவைகள் வழங்கப்படுகின்றன இலங்கையில் செயற்படும் பல்வேறு நிதி நிறுவன வகைகள் யாவை? (2014 / 03 / ii / ஆ / 01)

10. வணிகவங்கிகள் வணிக நிறுவனங்களுக்குப் பல வகையான சேவைகளை வழங்குகின்றன. அவ்வாறான சேவைகளை சுருக்கமாக விபரிக்குக (2015 / 03 / iv / ஆ)

11. 'தற்காலத்தில் இலங்கையில் நிதிக்கம்பனிகள் வேகமாக வளர்ந்து செல்வதைக் காணக்கூடியதாக உள்ளது' அவ்வாறு நிதிக்கம்பனிகள் வேகமாக வளர்ந்து செல்வதற்கான 04 காரணங்களைக் குறிப்பிடுக (2015 / 03 / v / ஆ)

12. நிதிக்கம்பனிகளின் இரண்டு பணிகளைக் குறிப்பிட்டு, அவை வணிகங்களின் வளர்ச்சிக்கு எவ்வாறு பங்களிப்புச் செய்கின்றன என்பதை விளக்குக? (2016 / 03 / iii / ஆ)

13. அண்மையில் இளைப்பாறிய உமது உறவினர் ஒருவர் தமது ஊழிய சேமலாப நிதியத்தில் இருந்து ரூபா, மூன்று மில்லியன் களைப் பெற்றுக்கொண்டார். எனக்கொள்க தற்போது இப்பணத்தை நிதிக்கம்பனி ஒன்றில் நிலையான வைப்புக் கணக்கில் முதலீடு செய்யவேண்டுமென அவர் கருதுகின்றார். பொருத்தமான நிதிக்கம்பனியொன்றை தெரிவு செய்வ தற்காக நீர் அவருக்கு எவ்வாறான அறிவுரைகளை வழங்குவீர்? (2013 / 03 / iii)

14. இலங்கை மத்திய வங்கியின் பிரதான குறிக்கோள்கள்எவை? (2014 / 03 / v / அ)

15. இலங்கையின் நிதித்துறையை கண்காணிக்கும் அமைப்பு இலங்கை மத்திய வங்கியாகும். இலங்கை மத்திய வங்கியின் நோக்கங்களைக் குறிப்பிடுவதுடன் இந் நோக்கங்கள் எவ்வாறு அடைந்துக்கொள்ளப்படுகின்றன. என்பதையும் விளக்குக (2012 / 03 / iv)

16. நடைமுறைக்கணக்குகளைப் பயன்படுத்துவதன் மூலம் வணிகர்களுக்கு கிடைக்கத்தக்க இரண்டு அனுசூலங்களை விளக்குக (2016 / 03 / iv / அ)

17. வணிகவங்கிகள் தமது இலக்குகளை அடைந்து கொள்வதற்கு மேற்கொள்ளும் முக்கிய நடவடிக்கைகளை குறிப்பிடுக (2014 / 03 / V / ஆ / 01)

18. வணிக அபிவிருத்திக்கு நிதி நிறுவனங்கள் எவ்வகையில் பங்களிப்பை வழங்குகின்றன. சுருக்கமாக விளக்குக

(2014 / 03 / V / ஆ)

19. தற்போது பெரும்பாலான வங்கிச்சேவைகளை இலத்திரனியல் ஊடாகவே செயற்படுகின்றது. இலத்திரனியல் வங்கிச் சேவைகள் நான்கை விளக்குக

(2012 / 03 / V)

22. இலங்கையில் பயன்படுத்தப்படும் கடன் அட்டைகளுக்கு இரண்டு உதாரணங்களைக் குறிப்பிடுக (2014 / 07 / I / ஆ)

21. வரவு அட்டை ஒன்றிற்கும், கடன் அட்டை ஒன்றிற்கும் இடையிலான ஒற்றுமைகளும், வேற்றுமைகளும் எவை?

(2013 / 03 / v / ஆ)

26. கடன் அட்டைகளைப் பயன்படுத்தி பொருட்களைக் கொள்வனவு செய்யும் வாடிக்கையாளர்களுக்கு கழிவுகளை வழங்குவதாக சிறப்பு அங்காடி ஒன்றினால் அறிவிக்கப்பட்டுள்ளது. கடன் அட்டைகளைப் பயன்படுத்துவதில் உள்ள அனுசூலங்களையும் வரையறைகளையும் விளக்குக

(2014 / 07 / I / ஆ)

22. வாடிக்கையாளர் ஒருவர் வரவு அட்டையிலும் பார்க்க கடன் அட்டையை பயன்படுத்துவதன் மூலம் பெற்றுக்கொள்ளக் கூடிய இரண்டு நன்மைகளை எழுதுக

(2016 / 03 / v / ஆ)

28. சில வாடிக்கையாளர்கள் தன்னியக்க இயந்திர அட்டைகளை (ATM card) வைத்திருக்கின்ற போதிலும் பெரும்பாலான வர்கள் பணத்தை மீளப்பெறுவதற்காக வங்கிக்கருமபீடத்திற்குச் செல்கின்றார்கள். என அளவையாய்வு (Survey) ஒன்று வெளிப்படுத்தியுள்ளது. வாடிக்கையாளர்கள் ATM அட்டைகளை பயன்படுத்தாமல் இருப்பதற்கான இரண்டு காரணங்களை எடுத்துக்காட்டுக (2016 / 03 / iii/ அ)

23. சில நபர்கள் கடன் அட்டைகளைப் பயன்படுத்துவதில் தயக்கம் காட்டுவது ஏன்? என விளக்குக (2014 / 03/ iv/ ஆ)

24. காசோலை ஒன்றுக்கு குறுக்குக் கோடிடக்கூடிய தரப்பினர்களைக் குறிப்பிடுக (2013 / 03 / iv / ஆ)

25. காசோலைக்கு குறுக்கு கோடிடுவதன் மூலம் காசோலையை வரைபவர் என்ன எதிர்பார்க்கின்றார்? (2011/ 03 / v/ அ)

26. காசோலையில் 'புறக்குறிப்பிடுதல்' என்பதனால் கருதப்படுவது யாது? இதன் நோக்கத்தை குறிப்பிடுக?

(2011/03/v/ஆ)

27. காசோலைக்கான திகதி, தொகை (எழுத்திலும், இலக்கத்திலும்) மற்றும் கையொப்பம் ஆகியவற்றை காசோலையின் மீது சரியாக எழுதியிருந்த போதிலும் வங்கியின் ரெல்லர் இயந்திரமானது அக்காசோலைக்கான காசை செலுத்த மறுத்தது. இக்கொடுப்பனை செலுத்த மறுத்ததற்கு சாத்தியமான நான்கு காரணங்களை எழுதுக (2015 / 03 / iv/ அ)

28. 'கூடுதலான கொடுக்கல் வாங்கல்களில் பிற்சிகதியிடப்பட்ட காசோலைகள், பயன்படுத்துகின்றன'  
அ. பிற்சிகதியிடப்பட்ட காசோலைகள் என்பதன் மூலம் கருதப்படுவது யாது?

ஆ. கொடுக்கல் வாங்கல்களில் பிற்சிகதியிடப்பட்ட காசோலைகள் ஏன் ஏற்றுக்கொள்ளப்படுகின்றன?

29. 'A' என்பவரை பணம் பெறுபவராகக் கொண்டு அவரின் பெயருக்கு எழுதப்பட்ட கட்டளை ஒன்றினை 'B' களவாடி Aயின் கையொப்பத்தை மோசடியாக இட்டதுடன் அதனை புறக்குறிப்பிட்டு 'C' என்பவருக்கு வழங்கி அதற்கான பணப் பெறுமதியைப் பெற்றுக்கொண்டார். C காலக்கதியில் இக்காசோலைக்கு உரித்துடையவரா? (Holder in Due Course) உமது விடைக்கான காரணத்தை தருக (2013 / 03 / iv / அ)

30. வங்கிப்பணத்திற்கும், இலத்திரனியல் பணத்திற்கும் இடையிலான வேறுபாடுகளை உதாரணங்களுடன் விளக்குக (2014/ 03/ i/ அ)

31. இலத்திரனியல் பணக்கொடுக்கல் வாங்கல்களில் ஒரு அதிகரிப்பையும் காசு மற்றும் காசோலை கொடுக்கல் வாங்கல்களில் வீழ்ச்சியையும் காணக்கூடியதாகவுள்ளது. இலத்திரனியல் பணப்பாவனையில் அதிகரிப்பு காணப்படுவதற்கான காரணங்கள் எவை? (2013/ 03 / v/ அ)

32. காசோலையைக் குறுக்குக் கோடிடுவதன் மூலம் வரையுனர் நிறைவேற்றிக்கொள்ள எதிர்பார்க்கும் இரண்டு நோக்கங்களைக் குறிப்பிடுக? (2017 / BII/ 3 - III அ)

33. ஊழியர் சேமலாப நிதியத்துக்கும் ஊழியர் நம்பிக்கை நிதியத்துக்கும் இடையே காணப்படும் இரண்டு வேறுபாடுகளைக் குறிப்பிடுக (2017 / BII/ 3 - III அ)



34. இலங்கை மத்திய வங்கி ஆண்டறிக்கையின் படி (2016) நாட்டின் மொத்த சனத்தொகையில் சுமார் 6% சதவீதத்தினர் கடன் அட்டைகளைப் பயன்படுத்துகின்றனர்.

1. இலங்கையில் கடனட்டைகளின் பாவனை குறைந்த மட்டத்தில் காணப்படுவதற்கான காரணங்களைத் தருக?

2. கடனட்டைப் பாவனையை அதிகரிக்கச் செய்வதற்கு வங்கியாளர்கள் பின்பற்றக்கூடிய நான்கு தந்திரோபாயங்களைத் தருக (2017 / BII/ 3 - IV)

35. ஒரு நாட்டின் நாணயமாற்றுக் கொள்கைத்தளர்வானது வெளிநாட்டு வியாபாரத்தில் ஈடுபட்டுள்ள அந்நாட்டு வணிகங்களின் தாக்கம் செலுத்தக்கூடிய இரண்டு வழிகளைத் தருக (2017 / BII/ 3 + V - அ)

36. வணிகவங்கிகள் மற்றும் ஏனைய நிதிநிறுவனங்கள் மீதான இலங்கை மத்திய வங்கியின் மேற்பார்வையானது வாடிக்கையாளர் மீது அனுசூலமான தாக்கத்தைச் செலுத்தும் இரண்டு வழிகளை விளக்குக (2017 / BII/ 3 + IV - )

## 08. காப்புறுதி

### பகுதி - I

**பின்வரும் வினாக்கள் ஒவ்வொன்றுக்கும் மிகவும் பொருத்தமான விடையைத் தெரிவு செய்க**

01. மதுரா A, B எனும் காப்புறுதிக் கம்பனிகளில் முறையே ரூபா 300,000 , ரூபா 400,000 ஆகிய பெறுமதிகளில் ஆயுள் காப்புறுதி ஒப்பந்தங்கள் இரண்டினைப் பெற்றுக்கொண்டு காப்புறுதித் தவணைப் பணத்தை முறையாகச் செலுத்தியுள்ளார் காப்பீட்டு காலத்தினுள் மதுரா மரணமடைவாராயின் கிடைக்கக்கூடிய இழப்பீட்டுத் தொகை யாது? 2019/14

(1) ரூபா 300,000 (2) ரூபா 350,000 (3) ரூபா 400,000 (4) ரூபா 700,000 (5) இழப்பீட்டு கோர உரித்தில்லை ( )

02. காப்புறுதித் தத்துவங்கள் சில கீழே தரப்பட்டுள்ளன

A - இழப்பீடு B - பதிலாள் வைப்பு C - பங்களிப்பு D - மிக்குயர் நன்நம்பிக்கை

மேலே தரப்பட்டுள்ளவற்றுள் ஆயட்காப்புறுதிக்குப் பொருந்தக்கூடிய தத்துவத்தை தெரிவு செய்க (2015 / 15)

1. A 2. B 3. C 4. D 5. இவற்றுள் எதுவுமில்லை (.....)

03. காப்புறுதி செய்யத்தக்க இடர்கள் மற்றும் காப்புறுதி செய்யத்தகாத இடர்கள் சில கீழே தரப்பட்டுள்ளன

A - மோட்டார் வாகனங்களின் தேய்வு B - ஒரு பாடகரின் குரல்

C - இறப்பு

D - வயதாதல்

E - ஊழியர் விலகிச்செல்லல்

மேலே தரப்பட்டுள்ளவற்றுள் காப்புறுதி செய்யத்தகாத இடர்களை மட்டும் உள்ளடக்கிய தொகுதியைத் தெரிவு செய்க

1. A,B,C,D

2. A,B,C,E

3. A,B,D,E

4. A,C,D,E

5. B,C,D,E

(.....)

04. குமரன் தனது காரை ரூபா 3 மில்லியனுக்கு காப்புறுதி செய்துள்ளார். அவரது கார் அடையாளம் தெரியாத நபரொருவரால் திருடப்பட்டது. காப்புறுதி நிறுவனம் ரூபா 3 மில்லியனை குமரனுக்கு நட்டாடாக செலுத்தியது. சில நாட்களின் பின்னர் காப்புறுதி நிறுவனத்தால் கார் கண்டுபிடிக்கப்பட்டதுடன் அது ரூபா 3.5 மில்லியன் சந்தை பெறுமதிக்கு ஏலத்தில் விற்பனை செய்யப்பட்டது. (ஏல விற்பனைக்கட்டணம் ரூபா 150,000) அதன் பின்னர் காப்புறுதி நிறுவனம் செய்ய வேண்டியது?

(2014 / 12)

1. ரூபா 3 மில்லியன் வைத்துக்கொண்டு மிகுதி தொகையை குமரனுக்கு வழங்குதல்
2. ரூபா 3 மில்லியனையும் பிற செலவுகளையும் வைத்துக்கொண்டு மிகுதி தொகையை குமரனுக்கு வழங்குதல்
3. ஏல விற்பனைக் கட்டணத்தை செலுத்திய பின்னரான மிகுதி தொகையை வைத்துக்கொள்ளல்
4. மோட்டார் வாகனத்தை கொள்வனவு செய்பவருக்கு மிகுதி தொகையை வழங்கல்
5. மிகுதி தொகையை அரசுக்கு செலுத்துதல்

(.....)

4. சிவா என்பவர் தான் வசிக்கும் வீட்டிற்காக ரூபா 200,000இற்கு X கம்பனியிடமிருந்து காப்புறுதிப்பத்திரமொன்றைப் பெற்றுக் கொண்டதுடன் ரூபா 400,000இற்கு Y கம்பனியிடமிருந்து மற்றுமோர் காப்புறுதிப்பத்திரத்தையும் பெற்றுள்ளார். வீடு தீயினால் சேதமடைந்ததன் காரணமாக ஏற்பட்ட இழப்பு ரூபா 300,000 ஆகக் காணப்பட்டது பங்களிப்புத் தத்துவத்தின் பிரகாரம் முறையே X மற்றும் Y கம்பனிகளால் செலுத்தப்படும் இழப்பீடுகள் யாவை?

(2013 / 12)

1. X ரூபா, 200,000 ,Y ரூபா 400,000

2. X ரூபா, 150,000 ,Y ரூபா 150,000

3. X ரூபா, 200,000 ,Y ரூபா 100,000

4. X ரூபா, 100,000 ,Y ரூபா 200,000

5. X ரூபா, 200,000 ,Y ரூபா 300,000

(.....)

5. பின்வருவனவற்றுள் காப்புறுதியுடன் தொடர்புபட்ட வகையில் ஒரு கூற்று தவறானதாகும். தவறான கூற்றைத் தெரிவு செய்க

(2012 / 12)

1. நபரொருவர் தனது உயிரின் மீது வரையறுக்கப்படாத காப்புறுதி செய்தகு நலனைக் கொண்டுள்ளார்.
2. நபரொருவர் தனது வாழ்க்கைத்துணையின் (Spouse) உயிரின் மீது காப்புறுதி செய்த நலனைக் கொண்டிருக்க வில்லை
3. தங்க நகைகளை அடகு பிடிப்பவர் (Pawn Broker) தன்னிடம் பிடிக்கப்பட்ட தங்க நகை காப்புறுதி செய்தகு நலனைக் கொண்டுள்ளார்.
4. நபரொருவர் தனது பிள்ளைகளின் அல்லது உறவினர்களின் உயிரின் மீது காப்புறுதி செய்தகு நலனைக் கொண்டிருக்கவில்லை
5. ஆயுளுறுதி மற்றும் தனிப்பட்ட விபத்துக்கள் தொடர்பான காப்புறுதிக்கு இழப்பீட்டு (நட்டாட்டு) தத்துவம் பொருத்தமான தல்ல

(.....)

6. பின்வருவனவற்றுள் சரியான கூற்றைத் தெரிவு செய்க

1. ஒரு தந்தையானவர் தனது மகனின் ஆயுள் மீது காப்புறுதி செய்தகு நலனைக் கொண்டிருக்கவில்லை
2. தனிநபர் விபத்துக்காப்புறுதி மற்றும் ஆயுட்காப்புறுதி ஆகியவை தொடர்பில் பதிலால் வைப்பு பங்களிப்பு மற்றும் அண்மைக்காரணி போன்ற காப்புறுதித் தத்துவங்களைப் பிரயோகிக்க முடியாது
3. குறித்த ஒரு ஆதனம் தொடர்பில் இரட்டைக்காப்புறுதியை பெற்றுக்கொள்ள முடியுமாயினும் ஆதனத்தின் பெறுமதிக்கும், கூடுதலான நட்டாட்டைப் பெற்றுக்கொள்வதனைத் தடுக்கும் தத்துவம் பதிலால் வைப்பாகும்
4. கடன் கொடுத்தோன் ஒருவன் தனது கடன்பட்டோனின் ஆயுளின் மீது காப்புறுதி செய்தகு நலனைக் கொண்டுள்ளார்
5. மிகவும் உயர்ந்த பெறுமதியுடைய ஆதனமொன்றின் இடரைப் பல காப்புறுதிக் கம்பனிகள் ஏற்றுக்கொள்வது மீள் காப்புறுதி என அழைக்கப்படும்

(.....)

7. சதீஸ் என்பவர் ரூ 1,000,000 பெறுமதியில் தனது மோட்டார் வாகனத்துக்கு அகல் விரிவான காப்புறுதிப் பத்திரம் ஒன்றைப் பெற்றுள்ளார். அம் மோட்டார் வாகனத்தின் சந்தைப்பெறுமதி ரூ 2,000,000 ஆகும். மோட்டார் வாகனமானது விபத்தைச் சந்தித்த போது அதற்கு ஏற்பட்ட சேதம் ரூபா 400,000 ஆக மதிப்பிடப்பட்டது. காப்புறுதிக் கம்பனியால் சதீஸ் என்பவருக்கு வழங்கப்படும் இழப்பீட்டுத் தொகை எவ்வளவு?

(2010 / B - I / 13)

1. ரூ 2,000,000

2. ரூ 1,000,000

3. ரூ 400,000

4. ரூ 200,000

5. எது வித இழப்பீட்டுக்கும் உரிமை இல்லை

(.....)

8. குறித்தவொரு ஆதனத்துக்கு இரட்டைக் காப்புறுதியைச் செய்துள்ள போதும் இவ்வாதனத்தின் பெறுமதிக்கும் மேலாக நட்ட ஈட்டைப் பெறுவதனைத் தடுக்கின்ற காப்புறுதித் தத்துவம் (2009 / B - I / 13)
1. மிக்முயர் நன்நம்பிக்கை 2. காப்புறுதி செய்தகுநலன் 3. பங்களிப்பு  
4. பதிலாள் வைப்பு 5. அண்மைக்காரணி (.....)
9. காப்புறுதி செய்வோரால் காப்புறுதி அளிப்போருக்குச் சகல பொருத்தமான தகவல்களையும் வெளிப்படுத்த வேண்டுமென்பதைத் குறிப்பிடும் காப்புறுதித்தத்துவம் (2008 / B - I / 13)
1. காப்புறுதி செய்தகு நலன் (Insurable interest) 2. மிக்முயர் நம்பிக்கை (Utmost Good faith)  
3. இழப்பீடு (indemnity) 4. பங்களிப்பு (Contribution)  
5. பதிலாள் வைப்பு (Subrogation) (.....)
10. காப்புறுதி செய்பவர் வெளிக்கட்சியினரிடமிருந்து இழப்பீட்டைப் பெறும் தனது உரிமையைக் காப்புறுத்துவோருக்குத்துவோருக்கு மாற்ற வேண்டும் எனும் தத்துவம் எது? (2007 / B - 1 / 12)
1. காப்புறுத்தும் உரிமை 2. உயர் நன்நம்பிக்கைத் தத்துவம் 3. அங்கத்துவ தத்துவம்  
4. பதிலாள் வைப்புத் தத்துவம் 5. அண்மைக்காரணி தத்துவம் (.....)
11. அதியுயர் பெறுமானங்கொண்ட சொத்தொன்றிற்கான நட்டத்தினைக் காப்புறுதிக் கம்பனிகள் பல ஏற்றுக்கொள்ளுதல் எவ்வாறு அழைக்கப்படும்? (2007 / B - 1 / 15)
1. உறுதிப்பொறுப்பேற்றல் 2. மறுகாப்புறுதி 3. இரட்டைக்காப்புறுதி  
4. மிகை காப்புறுதி 5. குறைக்காப்புறுதி (.....)
12. மோட்டார் வாகனங்களுடன் தொடர்புடைய சில இடர்கள் கீழே தரப்பட்டுள்ளது  
A - தேய்வு B - விபத்துக்கள் C - களவு  
D - சந்தைப்பெறுமதி வீழ்ச்சி E - விற்பனை மூலமாக உருவாகும் நட்டம்  
F - மூன்றாம் தரப்பினர் இழப்பீடு  
மேலே கூறப்பட்டவற்றில் மோட்டார் வாகன காப்புறுதியின் கீழ் காப்புறுதி செய்யக்கூடிய இடங்களை மட்டும் கொண்ட தொகுதி எது?  
1. ABC 2. ACD 3. AEF 4. BCD 5. BCF (.....)  
(2017/B1/13)
13. பின்வருவனவற்றில் காப்புறுதியுடன் தொடர்புடைய சரியான கூற்றைத் தெரிவு செய்க  
1. எந்தவொரு இடரும் காப்புறுதி செய்யக்கூடியதாகும்  
2. வாடகைக்காரருக்கு தாம் வசிக்கும் வீட்டைக் காப்புறுதி செய்வதற்கு உரிமை உண்டு  
3. ஆதனமானது பல கம்பனிகளில் காப்புறுதி செய்யப்படுகின்ற போது அவ் ஆதனத்திற்கு இழப்பீடு ஒன்று ஏற்படும் கட்டத்தில் ஒவ்வொரு கம்பனியிடம் இருந்தும் தனித்தனியாக இழப்பீட்டை பெற முடியும்  
4. தொழில் வழங்குனர் தமது ஊழியர்களைக் காப்புறுதி செய்ய முடியும்  
5. இழப்பீட்டுத் தத்துவமானது ஆயுளுறுதிக்கும் பொருத்தமானதாகும் (.....)  
(2017 / B1 / 14)

### பொருத்தமான சொற்களைக் கொண்டு இடைவெளி நிரப்புக

14. காப்புறுதி வணிகத்தின் பயனுறுதித் தன்மைக்கு காப்புறுதிக் கொள்கைகள் முக்கியமானவையாகும். அவ்வாறான காப்புறுதிக் கொள்கைகள் நான்கிணை எழுதுக  
1. .... 2. ....  
3. .... 4. ....

### பகுதி - II

01 'தொழில் வழங்குனர் (ஊழியர்) பொறுப்புக் காப்புறுதி' என்பதனை விளக்குக? 2019/4-2-ii

- .....
- .....
- .....
- .....

02. காப்புறுதி செய்ய முடியாத இடர்களுக்கு நான்கு உதாரணங்கள் தருக.

(2018/BII/4-1a)

03. காப்புறுதிக் கைத்தொழிலின் அபிவிருத்திக்குப் பங்களிப்புச் செய்வதற்காக இலங்கைக் காப்புறுதிச்சபை ஸ்தாபிக்கப்பட்டது. இச் சபையினால் நிறைவேற்றப்படும் 4 பணிகளைக் குறிப்பிடுக.

(2018/BII/4-1b)

04. காப்புறுதி தொடர்பில் பின்வரும் பதங்களை விளக்குக

1. இடரும் காரணமும் (Risk and cause)

2. நட்டங்களும் சேதங்களும் (Loss and Damages)

(2012 / 04/i/ ஆ)

04. பின்வருவன தொடர்பில் காப்புறுதியின் அனுகூலங்களை தனித்தனியாக விளக்குக

1. தனிப்பட்டோர் மற்றும் குடும்பம் (Individual and family)

2. வணிக நிறுவனம் (அலகு) (Business Entity)

(2012 / 04 / I / அ)

05. காப்புறுதியின் மூலம் வணிக நிறுவனங்களுக்குக் கிடைக்கும் இரண்டு அனுகூலங்களை விபரிக்குக

(2016 / 03 / v/ ஆ)

06. காப்புறுதியின் மூலம் தனிப்பட்டவர்களுக்கும், வணிக நிறுவனங்களுக்கும் கிடைக்கும் பயன்கள் யாவை? என விளக்குக  
(2007 / B - I / 06 / ii)

07. சிறு குறிப்பு எழுதுக  
அண்மைக்காரணி (2008 / B - II / 05 / ஆ / I / 02)

08. பின்வரும் காப்புறுதித் தத்துவங்களை உதாரணங்களுடன் விளக்குக  
1 காப்புறுதி செய்யத்தக்க நலன் 2. மிக் குயர் நன்நம்பிக்கை 3. அண்மைக்காரணி (2010 / B - I / 06 / I)

09. தனழீ என்பவர் தனது மனைவியின் மீது ஒரு முழுமையான ஆயுளுறுதிப் பத்திரமொன்றைப் பெற்றுக் கொண்டார். பின்னர் ஒரு கட்டடத்தில் மனைவி தனழீயிடமிருந்து விவாகரத்தைப் பெற்றுக்கொண்டார். சில காலத்தின் பின்னர் அவள் இறந்து விட்டாள். காப்புறுதி செய்யப்பட்ட அத்தொகையை தனழீக்கு கொடுப்பதற்கு அக்காப்புறுதிக் கம்பனி பொறுப்புடையதா? உமது விடைக்கான காரணங்களைத் தருக? (2013 / 04 / I / அ)

10. ஆயுளுறுதிக்கும் ஏனைய காப்புறுதி பூட்கைகளுக்கும் இடையிலான ஆறு வித்தியாசங்களை தருக? (2008 / B - I / 02)

11. அ. ஆயுட் காப்புறுதி மற்றும் மோட்டார் வாகனக் காப்புறுதி என்பன தொடர்பில் நட்புடைய கோரும் போது இவை ஒவ்வொன்றிலும் காப்புறுதி செய்வோர் முகங்கொடுக்கும் பிரச்சினைகள் இரண்டு வீதம் விளக்குக

ஆ. சந்திரமூர் என்பவர் ஒரு தொழில்சார் வாத்தியங்கலைஞரும், பாடகருமாவார். இவர் உள்ளூர் இசை நிகழ்ச்சியில் பங்குபற்றுவதற்காக அடிக்கடி தனது சொந்த வாகனத்தில் பயணிக்கின்றார். அத்தோடு வெளிநாட்டு இசை நிகழ்ச்சிகளிலும் கூட பங்குபற்றுகின்றனர். சந்திரமூர் முகங்கொடுக்கக் கூடிய நான்கு இடர்களைப் பெயரிடுக. அவ்விடர்களை உள்ளடக்கியவாறு அவர் பெற்றுக்கொள்ளக்கூடிய காப்புறுதிப் பத்திரங்களை (ஒப்பந்தங்களை) குறிப்பிடுக  
(2015 / 04 / i)

12. சங்கீதன் என்பவரின் கார் விபத்துக்கு உள்ளாகியதால் அவருக்கு ரூபா 1,200,000 நட்பம் ஏற்பட்டதாக மதிப்பிடப்பட்டது. அவர் ரூபா 2,000,000 பெறுமதியான இக்காரை காப்புறுதியாளர்களான SRC இடமும் JSA இடமும் முறையே ரூபா 1,800,000 இற்கும் ரூபா 1,200,000க்கும் காப்புறுதி செய்துள்ளார். இரு காப்புறுதி நிறுவனங்களிடமிருந்தும் வாகனத்தின் முழுமையான இழப்பீட்டை பெற்றுக்கொள்ள முடியுமா? உமது விடைக்கான காரணங்களைக் குறிப்பிடுக?  
(2014 / 04 / I / அ)

13. நபர் ஒருவர் தனது சொந்த சொத்துக்கள் சிலவற்றை X என்ற காப்புறுதிக்கம்பனியில் காப்புறுதி செய்தார். X கம்பனியானது இந்த ஆதனங்களை Y என்ற காப்புறுதிக் கம்பனியில் காப்புறுதி செய்திருந்தது. இவ்வகையான காப்புறுதிக்கு வழங்கும் பெயர் யாது? இவ்வகையான காப்புறுதியின் பயன்கள் யாவை?  
(2009 / B - I / 05 / ii)

14. ஒப்புறுதி, மீள்காப்புறுதி எனும் பதங்களினால் அறியப்படுவது என்ன?  
(2014 / 04 / I / ஆ)

15. பியசீலி என்பவர் தனது சுவீகாரக் குழந்தையான வசந்தனுக்கு ஆயுளுறுதிப்பத்திரம் ஒன்றைப் பெற்றுக்கொண்டார். குழந்தைப்பருவத்திலிருந்து காணப்பட்ட ஒரு நோயினால் வசந்தன் 26 வயதில் இறந்துவிட்டான். காப்புறுதித்தத்துவங்களின் அடிப்படையில் வசந்தனின் ஆயுள்காப்புறுதிப்பத்திரம் தொடர்பில் நட்டஈட்டைப் பெற்றுக்கொள்வதில் பியசீலி எதிர்நோக்கக்கூடிய இரண்டு பிரச்சினைகளை சுருக்கமாக விளக்குக (2017 / BII / 4 - I - அ)

16. பொதுமக்கள் பொறுப்புக்காப்புறுதி என்றால் என்ன? என்பதனை விபரித்து அதற்கு உதாரணம் ஒன்று தருக (2017 / BII / 4 - 1 - ஆ)

### 09. போக்குவரத்து

#### பகுதி - I

**பின்வரும் வினாக்கள் ஒவ்வொன்றுக்கும் மிகவும் பொருத்தமான விடையைத் தெரிவு செய்யக்**

01. போக்குவரத்தின் அடிப்படை அம்சங்களைச் சரியாக உள்ளடக்கியுள்ள தெரிவு யாது? 2019/16

- (1) ஊடகம், வலு, வழி, தரிப்பிடம் (2) ஊடகம், வலு, கிரயம், வேகம்  
 (3) ஊடகம், தரிப்பிடம், கிரயம், வேகம் (4) ஊடகம், வலு, வழி, வேகம்  
 (5) கொள்வனவு, வழி, தரிப்பிடம், வலு ( )

02. கொழும்பு துறைமுகத்திலிருந்து சப்புஸ்கந்த எண்ணெய் சுத்திகரிப்பு நிலையத்திற்கு எரிபொருளை கொண்டு செல்வ தற்கு மிகப்பொருத்தமான போக்குவரத்து ஊடகங்கள் (2014 / 13)

1. ட்ரக் வண்டிகள், சுரங்கப்பாதைகள் மற்றும் புகையிரதம் ஆகும்  
 2. கப்பல்கள், புகையிரதம் மற்றும் ட்ரக் வண்டிகள்  
 3. புகையிரதம், கப்பல்கள் மற்றும் சிறிய ஆகாய விமானங்கள்  
 4. குழாய் வழி, புகையிரதம் மற்றும் பௌசர்கள் ஆகும்  
 5. குழாய் வழி, பௌசர்கள் மற்றும் சிறிய ஆகாய விமானங்கள் ஆகும் (.....)

03. போக்குவரத்துக்கான ஒரு சமமான அபிவிருத்தி அவசியமாக அமைவது (2012 / 13)

1. வேகத்தை அறிமுகப்படுத்தவும் பாதுகாப்பான போக்குவரத்து முறைகளுக்காக  
 2. நெடுஞ்சாலைகள், புகையிரதப்பாதைகள், நீர் வழிகளின் அபிவிருத்திக்காக  
 3. துறைமுகங்கள், விமானநிலையங்கள், பேரூந்து மற்றும் புகையிரத நிலையங்களின் அபிவிருத்திக்காக  
 4. மேலும் மேலும் பேரூந்துகள், லொறிகள், புகையிரதங்கள், விமானங்கள் மற்றும் கப்பல்களை உபயோகிப்பதற்காக  
 5. பாதைகள், தரிப்பிடங்கள், ஊடகங்கள், சக்தி (வலு) ஆகியவற்றின் அபிவிருத்திக்காக (.....)

04. பின்வரும் அட்டவணையானது சில போக்குவரத்து மூலங்களையும், அம்மூலங்களுக்குப் பொருத்தமான காரணங்களையும் எடுத்துக்காட்டுகின்றது

மூலங்கள்	உதாரணங்கள்
A - பாதை	1. கப்பல்
B - ஊடகம்	2. கடல்
C - சக்தி	3. விமான நிலையம்

D - தரிப்பிடம்	4. காற்று
	5. ஆகாய விமானம்
	6. ஆறு
	7. துறைமுகம்
	8. பெற்றோலியம்

மூலங்கள் மற்றும் உதாரணங்களுக்கான சரியான இணைப்பைத் தெரிவு செய்க

(2011 / 13)

- |                                       |                                       |
|---------------------------------------|---------------------------------------|
| 1. A - 1,2, B - 3,4, C - 5,6, D - 7,8 | 2. A - 2,4, B - 1,5, C - 6,8, D - 3,7 |
| 3. A - 2,6, B - 1,5, C - 4,7, D - 3,8 | 4. A - 2,6 B - 1,5, C - 4,8, D - 3,7  |
| 5. A - 2,6, B - 1,3, C - 4,8, D - 5,7 |                                       |

(.....)

**பின்வரும் வினாக்களுக்கு பொருத்தமான விடையை எழுதுக**

**05.புறவயமன போக்குவரத்து, வழங்கல் சேவைகளின் அசைவுகளாவன (Outbound logistics) -----**

----- தொடங்கி ----- முடிவடையும்.

2019/33-b

06. இலங்கையில் மிக அண்மையில் (2013 மார்ச்) திறந்து வைக்கப்பட்ட சர்வதேச விமான நிலையத்தின் பெயர் யாது? (விமான நிலையத்தின் முழுப்பெயரையும், அமைவிடத்தையும் எழுதுக)

07. இதற்கும் மேலதிகமாக, இலங்கையில் செயற்படும் மற்றைய சர்வதேச விமான நிலையம் யாது? (விமான நிலையத்தின் முழுப்பெயரையும், அமைவிடத்தையும் எழுதுக) (2013 / 46)

08. இலங்கை தேசிய விமான சேவை எது? (2008)

09. போக்குவரத்து முறைமையொன்றின் நான்கு அடிப்படை அம்சங்களை குறிப்பிடுக? (2009)

- |         |         |
|---------|---------|
| 1. .... | 2. .... |
| 3. .... | 4. .... |

09. பின்வருவனவற்றுள் போக்குவரத்து முறைமையுடன் தொடர்புடைய சரியான கூற்று எது?

1. பேருந்து நிலையமானது போக்குவரத்து தரிப்பிடத்தின் ஒரு கூறு ஆகும்
2. புகையிரதப்பாதையானது போக்குவரத்து முறைமையின் ஓர் கூறு ஆகும்
3. ஆகாய விமானம் ஆனது போக்குவரத்து சக்தியின் ஓர் கூறு ஆகும்
4. கப்பலானது போக்குவரத்து பாதையின் ஓர் கூறு ஆகும்
5. துறைமுகமானது போக்குவரத்து முறைமையின் ஓர் கூறு ஆகும்

(2017 / B1 / 15)

**பகுதி - II**

01.இலங்கை புகையிரத போக்குவரத்துச் சேவையில் காணப்படும் நான்கிணைக் குறிப்பிட்டு, அப்பலவீனங்களை நிவர்த்தி செய்வதற்கான தீர்வுகளைப் பரிந்துரைக்குக? 2019/4-iii

- .....
- .....
- .....
- .....

02. நுவரெலியாவில் இருந்து கொழும்புக்குப் பழங்களைக் கொண்டு செல்வதற்கான ஒரு போக்குவரத்துச் சேவையைத் தெரிவுசெய்யும் போது கருத்திற்கொள்ள வேண்டிய 4 காரணிகளைக் குறிப்பிடுக. (2018/BII/4-4a)

.....

.....

.....



03.புகையிரதத்தின் மூலம் பொருட்கள் கொண்டு செல்வதனை அதிகரிக்கச் செய்வதற்கு நீர் கூறக்கூடிய 4 ஆலோசனைகளைக் காரணங்களுடன் விவரிக்குக. (2018/BII/4-4b)

03. இலங்கையில் நெடுஞ்சாலைகள் மற்றும் புகையிரதப்போக்குவரத்து முறைமைகளின் கடந்த அண்மைக்காலங்களில் எவ்வாறான முன்னேற்றத்தை காணக்கூடியதாகவுள்ளது? ஆராய்க (2011 / 04 / i)

04. பின்வரும் ஒவ்வொன்றுக்கும் நீர் சிபாரிசு செய்யும் போக்குவரத்து முறைமைகளை காரணங்களுடன் குறிப்பிடுக  
1. தயிர் - அம்பாந்தோட்டையிலிருந்து கொழும்புக்கு  
2. புதிய மலர் - நுவரெலியாவிலிருந்து கொழும்புக்கு  
3. புதிய கடல் மீன்கள் - கொழும்பிலிருந்து லண்டனுக்கு (2008 / B - I / 06 / அ)

05. இலங்கையின் பொருட்களையும் பிரயாணிகளையும் கொண்டு செல்வதற்காக காணப்படும் வீதி போக்குவரத்து முறையில் கட்டமைப்பை விளக்குவதுடன் வீதிப்போக்குவரத்து முறைமையின் பலவீனங்களை பற்றிக் கருத்துரைக்குக (2009 / B - I / 05 / iii)

05. மரக்கறி வகைகளையும், பழங்களையும் ஏற்றிச் செல்வதில் புகைவண்டி மற்றும் நெடுஞ்சாலை போக்குவரத்தை பயன்படுத்துவதனால் ஏற்படும் நன்மை தீமைகளை ஒப்பிடுக (2014 / 04 / ii)

06. இவ்வாண்டின் பாடசாலை விவாத தொனிப்பொருள் 'வணிக வளர்ச்சிக்காக வீதி அபிவிருத்தியிலும் பார்க்க புகையிரதப் பாதையை அபிவிருத்தி செய்வது மிகவும் அனுசூலமானது' என்பதாகும் பாடசாலையில் விவாத அணியின் ஒரு அங்கத் தவர் என்ற வகையில் இத்தொனிப்பொருளுக்கு ஆதரவாகவும், எதிராகவும் நீர் முன்வைக்க எதிர்பார்க்கும் இரண்டு கருத் துக்கள் வீதம் விபரிக்குக (2016 / 04 / ii)

07. ஒரு நாட்டின் பொருளாதார மன்றும் சமூக அபிவிருத்திக்கு போக்குவரத்தின் வகிபாகத்தை விளக்குக (2013 / 04 / v)

08. கடந்த அண்மைக்காலத்தில் இலங்கையின் வீதிப்போக்குவரத்து முறைமையில் தெற்கு அதிவேக நெடுஞ்சாலை ஒரு குறிப்பிடத்தக்க அபிவிருத்தியாகும். வினைத்திறனான வீதிப்போக்குவரத்திற்கு இவ்வகையான அதிவேக நெடுஞ்சாலை கள் எவ்வாறு வளர்ச்சியை ஏற்படுத்த முடியும் என்பதனை விளக்குக (2012 / 04 / ii)

09. அதிவேக நெடுஞ்சாலை வலைப்பின்னல் அபிவிருத்தியின் காரணமாக வணிகத்துறையில் ஏற்படக்கூடிய பல்வேறு மாற்றங்களை விளக்குக (2015 / 04 / ii)

## 10. தொடர்பாடல்

### பகுதி – I

#### பின்வரும் வினாக்கள் ஒவ்வொன்றுக்கும் மிகவும் பொருத்தமான விடையைத் தெரிவு செய்க

01. எழுத்து வடிவிலான உரையாடலுக்கு (Text chatting) அடிப்படையில் தேவைப்படுவது (2014 / 28)
1. வலைக்கமரா (Web Camera)
  2. விசைப்பலகை (Key board)
  3. சுட்டி (Mouse)
  4. நுணுக்குப்பண்ணி (Microphone)
  5. பளிச்சீட்டு நினைவகம் (USB Flash Drive) (.....)
02. முகாமையாளர் ஒருவர் பெரிய விரிவான தகவலொன்றைத் தொடர்பாடல் செய்ய விரும்புகின்றார். பின்வருவனவற்றுள் இந்நோக்கத்திற்கு மிகவும் பொருத்தமான தொடர்பாடல் முறை யாது? (2013 / 13)
1. எழுத்திலான ஒரு ஞாபகக்குறிப்பு (Memo)
  2. நேருக்கு நேரான கூட்டம்
  3. அறிவித்தற்பலகை (Notice Board)
  4. தொலைபேசி
  5. அறிக்கை (Report) (.....)
03. பின்வருவனவற்றுள் இலத்திரனியல் தபாலை ஒரு பரந்தளவிலான இலத்திரனியல் தொடர்பாடல் முறையாகப் பயன்படுத்தவதில் காணப்படும் பிரதிகூலம் யாது? (2013 / 14)
1. அதிகம் விரைவானதல்ல
  2. தனிமை என்ற உணர்வை உருவாக்குதல்
  3. பின்னூட்டல் இல்லை
  4. உயர்ந்தளவிலான கிரயம்
  5. செய்திகளை விளங்கிக் கொள்வதிலுள்ள கடினத்தன்மை (.....)
04. பின்வரும் அட்டவணையில் X நிரலானது தொடர்பாடல் ஊடகங்களையும் Y நிரலானது தொடர்பாடல் முறைகளையும் எடுத்துக்காட்டுகின்றது

X	Y
A – வாய்மொழி மூலம்	1. கடிதம்
B – எழுத்து வடிவில்	2. கூட்டங்கள்
C – இலத்திரனியல் மூலம்	3. குரல் அஞ்சல்
D – அடையாளங்கள் மற்றும் குறியீடுகள் மூலம்	4. மணி ஒலி (bell)
	5. ஞாபகக்குறிப்பு (Memo)
	6. போக்குவரத்து வெளிச்சங்கள் (Traffic Lights)
	7. கலந்துரையாடல்கள்
	8. பேஜர்ஸ் (Pagers)

X இற்கும் Y இற்கும் பொருத்தமான இணைப்பை தெரிவு செய்க (2012 / 14)

1. A – 2,7, B – 1,5, C – 3,8, D – 4,6
2. A – 2,3, B – 1,8, C – 4,7, D – 5,6
3. A – 2,7, B – 1,5, C – 6,8, D – 3,4
4. A – 2,8, B – 1,5, C – 3,7, D – 4,6
5. A – 1,7, B – 2,5, C – 3,8, D – 4,6 (.....)

05. தொடர்பாடல் செயன்முறை ஒன்றில் பல்வேறு மூலக்கூறுகளும் காணப்படுகின்றன இதில் ஊடகத்தினூடாகச் செய்தி களைப் பெற்றுக்கொள்வதற்குப் பொருத்தமான மூலக்கூறு (2010 / B – I / 15)

1. குறிமுறைப்படுத்தல் (Encoding)
2. குறிமுறை நீக்கல் (Decoding)
3. பின்னூட்டல் (Feed Back)
4. பிரதிபலிப்பு (Response)
5. அனுப்புதல் (Transmission) (.....)

06. தொடர்பாடலில் ஒன்பது கூறுகள் காணப்படுகின்றன. இதில் ஒரு கூறு குறியீட்டு வடிவில் சிந்தித்துப்போடும் செயன் முறையில் காணப்படுகின்றது. அக்கூறு யாது?

1. குறிமுறைப்படுத்தல் (Encoding)
2. குறிமுறை நீக்கல் (Decoding)
3. பிரதிபலிப்பு (Response)
4. பின்னூட்டல் (Feed Back)
5. அனுப்புபவர் (Sender) (.....)

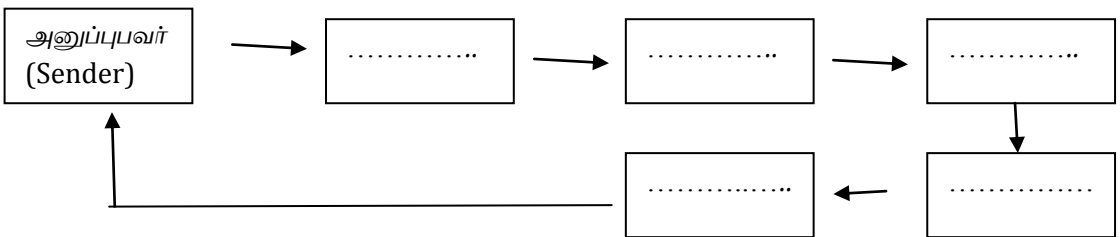


**வாருத்தமான சொற்களைக் கொண்டு இடைவெளி நிரப்புக**

07. நிறுவனமொன்றில் அவசர காலத்தில் வெளியேறுவதற்காக (Emergency Exit) அம்புக்குறியுடன் எடுத்துக் காட்டும் அறிவித்தற் பலகையானது ஒரு ..... அழைக்கப்படுவதுடன் ..... தொடர்பாடல் முறையாகக் கருதப்படுவதுடன் அதேவேளை நிறுவனத்தால் வாடிக்கையாளருக்கு அனுப்பப்படும் கடிதமானது ..... என அழைக்கப்படுவதுடன் ..... தொடர்பாடல் முறையாகக் கருதப்பட முடியும் (2015 / 35)

08. (அ) ..... மற்றும் ..... என்பன பயனுறுதிமிக்க செய்தி யொன்றைத் தயாரிக்கும் போது கவனத்தில் கொள்ளப்பட வேண்டிய காரணிகள் ஆகும்  
 (ஆ) நிறுவனமொன்றின் மாதாந்த மீளாய்வுக்கூட்டம் ஒன்றில் நிறுவனத்தின் தலைமை நிர்வாக அதிகாரி (CEO) ஏனைய முகாமையாளர்களுக்கு உரையாற்றுவதல் ..... என்பதுடன் அது ..... தொடர்பாடல் முறையாகும் (2014 / 35)

09. பின்வரும் வரைபடம் தொடர்பாடற் செயன்முறையின் மூலக்கூறுகளை விவரிக்கப் பயன்படுத்தப்பட்டதாகும். வரைபடத்திலுள்ள வெற்றுப் பெட்டிகளுக்குச் சரியான சொற்களை இடுவதன் மூலம் நிரப்புக (2011/36)



10. உலகில் மிகவும் பிரசித்தி பெற்ற கூரியர் சேவை (Courier Service) ..... ஆகும் (2008 / B - I / 26)

**பின்வரும் வினாக்களுக்கு மிகப்பொருத்தமான விடை எழுதுக**

11. இலங்கையில் காணப்படும் பிரசித்தி பெற்ற கூரியர் சேவை எது? (2010 / B – I/ 37)

.....

12. இலத்திரனியல் அஞ்சல் (E – mail) தொடர்பாடல் முறையைப் பயன்படுத்துவதன் நான்கு இன்றியமையாத கூறுகள் யாவை? (2010 / B – I/ 37)

- |         |         |
|---------|---------|
| 1. .... | 2. .... |
| 3. .... | 4. .... |

13. கையடக்கத் தொலைபேசிகளில் (Mobile Phones)'SMS" எனும் பதம் எதனைக் குறித்து நிற்கிறது? (2010 / B – I/ 38)

.....

**பகுதி – II**

01.வணிக நடவடிக்கைகளில் தொடர்பாடல் முக்கியத்துவம் பெறும் வழிகள் நான்கினைக் குறிப்பிடுக? 2019/4-iv-a

- .....
- .....
- .....
- .....

02. வாய்மொழிமூலத் தொடர்பாடலின் போது செய்தியொன்று சிதைவடைவதற்கான காரணங்கள் நான்கினைத் தருக? 2019/4-iv-b

- .....
- .....
- .....
- .....

03. ஒழுங்கான கோவை முறைமையை (Filling system) பேணுவது தொடர்பில் முகாமைத்துவ உதவியாளர்களுக்கான நடாத்தப்பட்ட பயிற்சி நிகழ்ச்சியில் உமது விரிவுரையில் பங்கு பற்றியவர்களின் பின்னூட்டலானது திருப்தியான மட்டத்தை எடுத்துக்காட்டவில்லை என நிறுவனமுகாமையால் உமக்குத் தெரிவிக்கப்பட்டது. அப் பின்னூட்டலில் உமது விரிவுரை தொடர்பில் இருந்திருக்கக்கூடிய 4 பலவீனங்களைக் குறிப்பிடுக. (2018/BII/4-5)

.....

.....

.....

.....

.....

04. ஒரு தொடர்பாடல் செயன்முறையில் உள்ளடக்கப்பட்டுள்ள துலங்கல் (Response) பின்னூட்டல் ஆகியவற்றை தனித் தனியாக விளக்குக (2012 / 04 / iii)

.....

.....

.....

.....

.....

05. முகாமையாளர் ஒருவர் தமது அலுவலர்களுக்கு விரிவுரை ஒன்றினை வழங்கும் போது கருத்திற் கொள்ள வேண்டிய நான்கு அடிப்படைக்காரணிகளை எழுதுக (2015 / 04 / iii/ அ)

06. வாய்மொழி மூலமான தொடர்பாடல் முறைகளை குறிப்பிட்டு அத்தொடர்பாடலின் அனுசூலங்களை விளக்குக (2013/ 04 / ii/ அ)

07. 'வாய்மொழி மூலத் தொடர்பாடலானது எழுத்து மூலமான தொடர்பாடலை விட வினைத்திறனானது ஆகும்; இதனை நீர் ஏற்றுக்கொள்கின்றீரா? உமது விடைக்கான காரணங்களைத் தருக (2014 / 04 / iii/ ஆ)

08. நேருக்கு நேரான வாய்மொழி மூலத் தொடர்பாடலினால் ஏற்படத்தக்க நான்கு பிரச்சினைகளைக் குறிப்பிடுக

(2016 / 04 / ii/ அ)

09. சுருக்கமாக விபரிக்குக  
(அ) இலத்திரனியல் மாநாடு

(ஆ) எழுத்து வடிவிலான உரையாடுதல்

(இ) குரல் வழி உரையாடுதல்

(ஈ) காணொளி மூலம் உரையாடுதல்

10. மக்கள் மற்றும் வணிக சமூகங்களிடையே மின்னஞ்சல், கையடக்கத்தொலைபேசி ஆகியன மிகவும் உயர்ந்தளவான பிரபல்யமான தொடர்பாடல் சாதனங்களாமாகும். இப்பிரபல்யத்திற்கான காரணங்களை மதிப்பிடுக (2011 / 04 / iii)

11. வணிக உலகில் மிகவும் பிரபல்யமான தொடர்பாடல் முறை இலத்திரனியல் தபாலாகும். இப்பிரபல்யத்திற்கான காரணங்களை விளக்குக (2010 / B - I / 02 / V)

12. இரு தரப்பினர்களுக்கிடையேயான இலத்திரனியல் தொடர்பாடலின் பயனுறுதித் தன்மையின் மீது செல்வாக்குச் செலுத்தக்கூடிய நான்கு இடையூறுகளைக் குறிப்பிடுக (2015 / 04 / iii/ ஆ)

13. இணையத்தின் மூலமான கடிதத் தொடர்புகளின் (தபாலில்) இரண்டு அனுகூலங்களையும், இரண்டு பிரதிகூலங்களையும் எழுதுக (2016 / 03 / iv/ ஆ)

14. இன்று கையடக்கத் தொலைபேசிகள் பல்வேறுபட்ட பணிகளுக்காக பயன்படுத்தப்படுகின்றன. வணிக நடவடிக்கைகளுக்காக கையடக்கத் தொலைபேசிகளை பயன்படுத்தக்கூடிய நான்கு சந்தர்ப்பங்களுக்கு உதாரணங்கள் தருக

(2016 / 03 / iv/ ஆ)

15. ஆடைத்தொழிற்சாலை ஒன்றின் தலைமை இயந்திரவியலாளர் அவரின் கீழ் பணியாற்றும் இயந்திரவியலாளர்களுடன் இடம்பெற்ற கலந்துரையாடலின் போது இயந்திரப்பழுதுகளை குறைப்பது தொடர்பாக அறிவுரைகளை வழங்கினார். இருப்பினும் இரு வாரங்களுக்குப் பின்னர் செய்யப்பட்ட அவதானிப்புகளின் போது பழுதடையும் இயந்திரங்களின் எண்ணிக்கை இன்னும் குறையாது இருப்பதனையும் அதற்கான காரணம் அநேகமான இயந்திரவியலாளர்கள் தான் வழங்கிய அறிவுரைகளை விளங்கிக்கொண்டிருப்பதில்லை என்பதனையும் விளங்கிக்கொண்டார். தலைமை இயந்திரவியலாளரின் அறிவுரைகளை ஏனைய இயந்திரவியலாளர்கள் விளங்கிக்கொள்ளாமைக்கு ஏதுவாக இருக்கக்கூடிய காரணிகள் யாவை?

(2014 / 04 / iii/ அ)

63. பின்வரும் அட்டவணையானது சில தொடர்பாடல் முறைகளை எடுத்துக்காட்டுகின்றது. ஒவ்வொரு முறைக்கும் இரண்டு தொடர்பாடல் முறைகளைத் தருக கீழ் குறிப்பிடப்படுவது போன்ற அட்டவணை விடையளிப்பதற்கு பயன்படுத்தவும்

(2010/ B - I / 05/ ii)

தொடர்பாடல் முறைமை (Communication Mode)	தொடர்பாடல் முறைகள் (Communication Method)	
வாய் மொழி மூலம்	1 .....	2. ....
எழுத்து வடிவில்	1 .....	2. ....
இலத்திரனியல் மூலம்	1 .....	2. ....
அடையாளங்கள், சைகை மூலம்	1 .....	2. ....

17. பின்வருவன பற்றி சிறுகுறிப்பு எழுதுக

1. புற இணையம் (Extranet)

(2012 / 08 / iii/ 02)

2. பல்லாடகம் (Multimedia)

(2010 / B - I / 06 / iii / ஆ)

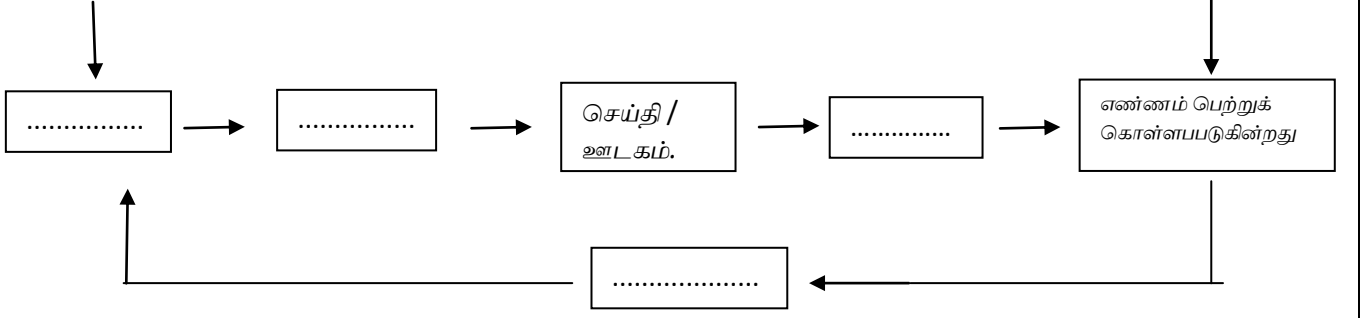
(2008 / B - i / 06 / ஈ / iii)

3. தரவுத்தளம் (Database)

(2010 / B - I / 06 / iii/ இ)



18. தகவல் அனுப்புவர்



2017/ B1 / 35

19. தொடர்பாடல் ஊடகம் ஒன்றைத் தெரிவு செய்யும் போது இவ்வணிகத்தில் கொள்ளக்கூடிய நான்கு விடயங்களைக் குறிப்பிடுக (2017 / Bii / 4 - ii - அ)

.....  
.....  
.....  
.....

20. பூகோள இடநிலைப்படுத்துவதல் முறைமையைப் (Global Positioning system - Gps) பயன்படுத்துவதன் மூலம் பொருட்களுக்கான போக்குவரத்தின் போது வணிகர் ஒருவர் பெற்றுக் கொள்ளக்கூடிய அனுகூலங்கள் இரண்டு தருக (2017 / Bi / 4 - ii - ஆ)

.....  
.....  
.....  
.....  
.....

## 11. வியாபாரம்

### பகுதி - I

பின்வரும் வினாக்கள் ஒவ்வொன்றுக்கும் மிகவும் பொருத்தமான விடையைத் தெரிவு செய்க

01. "சிறப்பு அங்காடி" என்பதனை மிகச்சரியாக வரையறுக்கும் கூற்று யாது? 2019/17

- (1) சுயசேவை அடிப்படையில் அத்தியாவசிய ,வசதிப்பொருட்களின் சில்லறை விற்பனையில் ஈடுபடும் ஒரு வர்த்தக நிலையமாகும்.
- (2) தனியொரு உற்பத்தியாளரின் பொருட்களை விநியோகம் செய்வதற்காக நாடு முழுவதும் கிளைகளைக் கொண்டதொரு வர்த்தக நிலையமாகும்.
- (3) தனியொரு உற்பத்தியாளரின் பொருட்களை மாத்திரம் விற்பனை செய்வதற்கு இணங்கியுள்ளதொரு வர்த்தக நிலையமாகும்.
- (4) ஒரே கட்டடத்தில் ஒவ்வொரு வகைப் பொருளுக்குமென வெவ்வேறு பகுதிகளைப் பராமரிக்கும் ஒரு வர்த்தக நிலையமாகும்.
- (5) பெருந்தொகையான பொருட்களைக் களஞ்சியப்படுத்தி வைத்திருந்து அவற்றின்மொத்த விற்பனையில் ஈடுபடும் ஒரு வர்த்தக நிலையமாகும். ( )

02. பின்வரும் அட்டவணை சர்வதேச வர்த்தகத்தில் பயன்படுத்தப்படும் சில ஆவணங்களின் வகைகளையும் அவற்றுடன் தொடர்புடைய விபரக்குறிப்புகளையும் காட்டுகிறது. 2019/18

ஆவணத்தின் வகை	விபரக்குறிப்பு
(1) சுங்கக்குறிப்பு	A - பொருட்கள் கப்பலுக்குப் பொறுப்பேற்கப்பட்டமைக்காக வழங்கப்படுகிறது.
(2) பட்டியல்	B - ஏற்றுமதிப் பொருட்கள் உற்பத்தி செய்யப்பட்ட நாட்டின் பெயரை உறுதிப்படுத்தல்
(3) உற்பத்தி நாட்டுச் சான்றிதழ்	C - விலை,தொகை,மொத்தப்பெறுமதி,ஏற்றுமதியாளரின் பெயர் ஆகிய விபரங்கள்
(4) சுமைச்சீட்டு (B/L)	D - ஏற்றுமதி அல்லது இறக்குமதிப் பொருட்கள் தொடர்பாக முகவரால் தயாரிக்கப்பட்ட கூற்று

மேற்குறித்த ஆவண வகைகளின் தொடரொழுங்கிற்கேற்ப சரியாகப் பொருந்துமாறு விபரக்குறிப்புகள் ஒழுங்குபடுத்தப்பட்டுள்ள தெரிவு யாது?

(1)A,C,B,D (2)B,C,A,D (3)B,D,C,A (4)D,B,C,A (5)D,C,B,A ( )

03. இலத்திரனியல் வணிகம் (e - business) என்பதனைச் சரியாக விவரிக்கின்ற கூற்று (2016 / 18)

1. கணினிகள் ஊடாக வியாபாரம் செயற்பாடுகளில் ஈடுபடல்
2. கொடுக்கல் வாங்கல்களுக்காக வலையமைப்புக்களைப் பயன்படுத்துதல்
3. ஒட்டுமொத்த வணிக செயற்பாடுகளைச் செயற்படுத்துவதற்காக வலையமைப்பை பயன்படுத்துதல்
4. கொடுக்கல் வாங்கல்களுக்காக இலத்திரனியல் பணத்தைப் பயன்படுத்துதல்
5. வணிக நிறுவனங்களின் கணக்குகளைத் தயாரிப்பதற்காக மென்பொருள்களைப் பயன்படுத்துதல் (.....)

04. ஏற்றுமதி நடைமுறையின் போது ஏற்றுமதியாளர் ஒருவருக்குத் தனது பொருட்களுக்கான உறுதியான பெறுவனவை உறுதி செய்யும் முறை யாது? (2016 / 19)

1. வார்நாமம்
2. நாணயக்கடிதம்
3. வாக்குறுதிச்சீட்டு
4. காப்புறுதி பத்திரம்
5. காசோலை (.....)

05. இணையத்தினூடு வழிவிடுமுறையிலான கொள்வனவுகளுக்கு (Online Purchasing) மட்டும் பொருத்தமான தனித்து வமானதொரு குணவியல்பு (2016 / 20)

1. பொருட்களைத் தெரிவு செய்யக்கூடியதாக இருத்தல்
2. விலைகளை ஒப்பிடக்கூடியதாக இருத்தல்
3. தேவையான பொருட்கள் தொடர்பில் மட்டும் கவனம் செலுத்தக்கூடியதாக இருத்தல்
4. கடன் அட்டை மூலம் கொடுப்பனவைச் செய்யக்கூடியதாக இருத்தல்
5. பேரம் பேசக்கூடியதாக இருத்தல் (.....)

06. பின்வரும் காரணிகளுள் ஏற்றுமதி, இறக்குமதி வியாபாரத் தடைகள் தொடர்பான இயற்கைக் காரணி எதுவாகும்?

1. ஏற்றுமதி இறக்குமதி வரையறைகள்
2. உயர்ந்த இறுப்புக்கள் (Tarriffs)
3. கலாச்சார வேறுபாடுகள்
4. இறுக்கமான நாணயமாற்றுகொள்கை
5. வியாபார உடன்படிக்கைகள் (.....)

07. இலத்திரனியல் வியாபாரம் (E-Trade) தொடர்பான பின்வரும் அனுசூலங்களுள் வணிகத்திற்கு மட்டும் பொருந்தக்கூடிய அனுசூலம் யாது?

1. கொடுக்கல் வாங்கல்கள் விரைவுபடுத்தல்
2. சந்தைப்பங்கு விரிவாகுதல்
3. போக்குவரத்தின் இலகுவன்மை
4. சந்தைத்தகவல்களின் தாராளத்தன்மை
5. ஒப்பீட்டளவில் பொருட்களுக்கான குறைந்த விலை மட்டம் (.....)

08. பின்வருவனவற்றுள் வணிக உலகமயமாதலின் முக்கியமான காரணியாக அமைவது

1. ஐரோப்பிய ஒப்பந்தம்
2. தொழினுட்பம்
3. NAFTA ஒப்பந்தம் வர்த்தக ஒப்பந்தம்
4. நாடுகளின் இனப்பல்லினத்தன்மை அதிகரித்தல்
5. மேம்படுத்தப்பட்ட அரசியலின் உறுதித்தன்மை (.....)

09. பின்வருவனவற்றுள் சார்க் (SAARC) அமைப்பின் உறுப்பு நாடுகளை மட்டும் உள்ளடக்கிய தொகுதி எது?

1. ஆஸ்திரியா, பெல்ஜியம், நேபாளம், இலங்கை மற்றும் லித்துவேனியா
2. நெதர்லாந்து, போர்த்துக்கல், பூட்டான், இலங்கை மற்றும் இந்தியா
3. ஐக்கியராச்சியம், ருமேனியா, ஆப்கானிஸ்தான், இலங்கை மற்றும் பாகிஸ்தான்

4. இந்தியா, இலங்கை ஆப்கானிஸ்தான், பாகிஸ்தான் மற்றும் பங்களாதேஷ்  
5. கிரேக்கம், பிரான்ஸ், அயர்லாந்து, இத்தாலி மற்றும் பூட்டான் (.....)

810 பின்வருவனவற்றுள் ஆசியன் அமைப்பில் சில அங்கத்துவ நாடுகளில் மட்டும் உள்ளடக்கியுள்ள தொகுதியை தெரிவு செய்க

1. புருணை, பூட்டான், மலேசியா, சிங்கப்பூர், இலங்கை
2. புருணை, இந்தோனேசியா, மலேசியா, சிங்கப்பூர், தாய்லாந்து
3. பங்களாதேஷ், பூட்டான், மலேசியா, நேபாளம், இலங்கை
4. ஆப்கானிஸ்தான், பங்களாதேஷ், இந்தியா, நேபாளம், பாகிஸ்தான்
5. புருணை, பூட்டான், இந்தியா, மலேசியா, தாய்லாந்து (.....)

11. GSP (முன்னுரிமைக்கான பொதுமைப்படுத்தப்பட்ட முறைமை + ) கீழ் இலங்கை ஆனது பொருட்களை ஏற்றுமதி செய்கின்ற

வியாபாரக்கூட்டணி (tent - block) எது?

1. தெற்காசிய பிராந்திய ஒத்துழைப்புக்கான சங்கம் (சார்க்)
2. ஐரோப்பிய சங்கம் (EU)
3. தெற்காசிய நாடுகளுக்கான சங்கம் (Asian)
4. வடஅமெரிக்கா சுதந்திர உடன்படிக்கை (Naita)
5. மத்திய ஐரோப்பிய சுதந்திர வியாபார உடன்படிக்கை (cefta) (.....)

12. பின்வருவனவற்றுள் 2008ஆம் ஆண்டின் மத்திய வங்கி அறிக்கையின் பிரகாரம் மிகவும் கூடுதலான ஏற்றுமதி வருமானத்தை ஈட்டித்தந்தது (2010 / B - I / 17)

1. தேயிலை
2. தென்னை
3. இறப்பர்
4. புடவைகளும் ஆடைகளும்
5. இரத்தினக்கற்கள் (.....)

13. பின்வரும் நாடுகளுள் ஒரு நாடு ஆசியான் (ASEAN) அமைப்பில் அங்கத்துவம் வகிக்கவில்லை அந்நாடு எது?

1. மலேசியா
2. பிலிப்பைன்ஸ்
3. இலங்கை (2009 / B - I / 03)
4. சிங்கப்பூர்
5. தாய்லாந்து (.....)

14. இலத்திரனியல் வியாபாரத்தில் (E - Trading) காணப்படாததும் ஆனால் மரபு ரீதியான சில்லறை வியாபாரத்தில் காணப்படுவதுமான ஒரு அனுசூலம் (2009 / B - I / 15)

1. குறைவான விலை குறைவான ஏனைய கிரயங்கள்
2. தகவல்களைப் பெறக்கூடிய சக்தி
3. கொள்வனவாளர்களால் கொள்வனவுத் தீர்மானம் கட்டுப்படுத்தப்படல்
4. வீட்டில் இருந்தவாறே கொடுக்கல் வாங்கலைச் செய்ய முடிதல்
5. கொள்வனவுத் தீர்மானத்தை எடுப்பதற்கு முன்னர் பௌதீக ரீதியாகப் பொருட்களைப் பரிசோதனை செய்தல் (.....)

15. ஒரு நாட்டின் சர்வதேச வியாபாரத்தில் தன்மையை பகுப்பாய்வு செய்வதற்கான ஒரு அடிப்படை அளவீடு

1. இறக்குமதிச்செலவீனம்
2. சென்மதி நிலுவை
3. மொத்த தேசிய உற்பத்தி (2009 / B - I / 03)
4. மொத்த விற்பனை விலைச்சுட்டெண்
5. ஏற்றுமதி வருமானம் (.....)

16. இலங்கையின் இறக்குமதி வகுதிக்குள் முதலீட்டுப் பொருட்களை கொண்ட தொகுதியைத் தெரிவு செய்க (2008 / B - I / 14)

1. உணவும் குடிபானங்களும், வளமாக்கிகள், இயந்திரங்களும் சாதனங்களும்
2. சுத்திகரிப்பாத எண்ணெய், போக்குவரத்துசாதனங்கள், புடவைகளும் ஆடைகளும்
3. கோதுமையும் தானியமும், கட்டடப்பொருள், பிளாத்திக்கு
4. கட்டடப்பொருள், போக்குவரத்துச்சாதனங்கள், இயந்திரங்களும் சாதனங்களும்
5. உணவும் குடிபானங்களும், வைரங்கள், இரசாயன மூலகங்களும் சேர்வைகளும் (.....)

17. குறித்த ஒரு வகையான உற்பத்திப்பொருட்களை விற்பனை செய்வதும் வித்தியாசமான புவியியல் பிரதேசங்களுக்கு

நிறுவப்பட்டதும் ஒரு உடமையாளருக்கு சொந்தமான விற்பனை நிலையங்கள் siroutless

1. மடங்குகடைகள் Multi plaza

2. பகுதிக்கடைகள் (Department store)

3. பிரத்தியேகமான கடைகள்

4. பிணைக்கப்பட்ட கடைகள்

5. சிறப்புச்சந்தைகள் (Supermarket)

(.....)

18. வியாபாரத்திற்கும் இறுப்புக்குமான பொது உடன்படிக்கை புநவய பதிலாக தாபிக்கப்பட்ட அமைப்பு எது?

1. உலக வங்கி (The world bank)

2. ஐரோப்பிய சங்கம் (The European Union)

3. உலக வர்த்தக நிலையம் (The world centre)

4. உலக வர்த்தக நிறுவனம் (The World Trade Organization)

5. சர்வதேச நாணயநிதியம் (The international Monetary fund)

(.....)

19. இறக்குமதி செய்த பண்டங்கள் துறைமுகத்துக்கு வெளியே எடுத்துச்செல்லப்பட்டு பதனிடப்பட்டு அல்லது பதனிடப் படாது ஏற்றுமதி செய்யப்படுதல் எவ்வாறு அழைக்கப்படும்? (2007 / B - I / 16)

1. ஏற்றுமதி

2. இறக்குமதி

3. இறக்கியேற்றுமிட வியாபாரம்

4. மீள் ஏற்றுமதி

5. இறக்குமதிப்பதிலீடு

(.....)

20. உலக வியாபார அமைப்பின் தலைமைகம் அமைந்துள்ள இடம் எது? (2007 / B - I / 16)

1. ஐக்கிய அமெரிக்காவில் நியூயோர்க்

2. இங்கிலாந்தில் லண்டன்

3. பிரான்ஸில் பாரிஸ்

4. சுவீஸ்லாந்தின் ஜெனீவா

5. ஜப்பானில் ரோக்கியோ

(.....)

பின்வரும் வினாக்களுக்கு பொருத்தமான சொற்களைக் கொண்டு இடைவெளி நிரப்புக

21.சங்கக் களஞ்சியசாலைகளில் இறக்குமதி செய்யப்பட்ட பொருட்களுக்குப் பெறுமதி சேர்க்கப்பட்ட பின்னர் ஏற்றுமதி செய்யப்படுதல் ----- வர்த்தகம் என்பதுடன், இறக்குமதி

செய்யப்பட்ட உபகரணங்களின் பயன்பாட்டின் பின்னர் மீண்டும் அதே நாட்டிற்குத் திருப்பியனுப்புதல் --  
----- ஏற்றுமதியாகும். 2019/34-a

(ஆ) சர்வதேச வர்த்தகத்தின்போது கொடுப்பனவுகளை மேற்கொள்வதற்காக வங்கி -----

----- கடிதம் ஆகியவற்றைப் பயன்படுத்தலாம். 2019/34-b

22. உற்பத்தியார் ஒருவர் தனது உற்பத்திப்பொருட்களைத் தானாகவே ஏற்றுமதி செய்வது .....  
முறை என அழைக்கப்படுவதுடன் வெளித்தரப்பினர் மூலம் ஏற்றுமதி செய்வது .....  
முறை என அழைக்கப்படும் (2016 / 37 / ஆ)

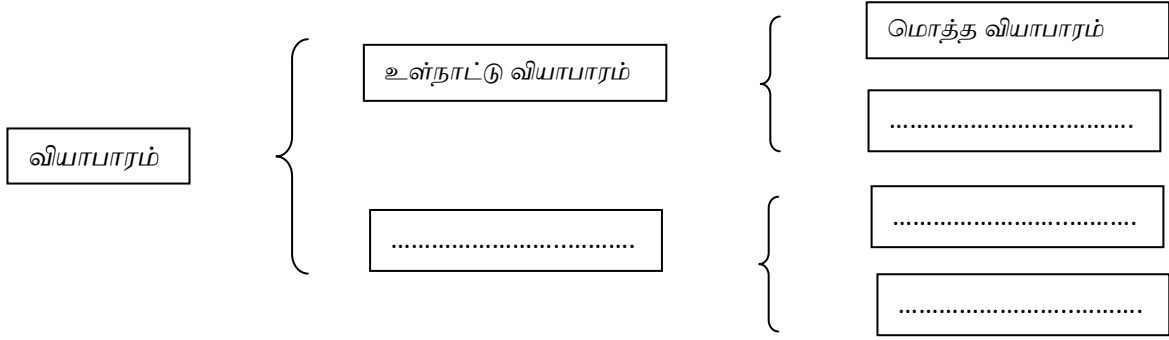
23. (அ) பொருட்களை ஏற்றுமதி செய்யும் போது ஏற்றுமதி செய்யப்படும் நாட்டினால் பொருட்களை உற்பத்தி செய்யப்பட்டன.  
என்பதனை அத்தாட்சிப்படுத்தல் ஒரு அதிகாரபூர்வ நிறுவனத்தினால் வழங்கப்படும் ஆவணமானது .....  
..... என அழைக்கப்படும்

(ஆ) இறக்குமதி செய்யப்பட்ட பொருட்களுக்கு இறக்குமதி செய்த நாட்டுக்குள்ளே சங்கத்தின் மேற்பார்வையில் கீழ்  
பெறுமதி சேர்க்கப்பட்ட பின்னர் அப்பொருட்கள் ஏற்றுமதி செய்யப்படுதல் .....  
என அழைக்கப்படும் (2015 / 36)

24. (அ) வணிகக் கொடுக்கல் வாங்கலில் இலத்திரனியல் வர்த்தகம் இடம்பெறக்கூடிய இரு முறைகளாக .....  
..... என்பவற்றைக் குறிப்பிடலாம்

(ஆ) முதல்வர் ஒருவரின் அதிகாரத்தின் கீழ் ஏதாவது செயற்பாடொன்றின் ஈடுபடுபவர் ..... என  
அழைக்கப்படுவார் (2014 / 36)

25. .... மற்றும் ..... என்பன நவீன பரிமாற்றல் செயன்  
முறைக்குத் துணைபுரியும் பல்வேறு சேவைகளுள் இரு சேவைகள் ஆகும் (2016 / 39 / ஆ)



27. வழங்கப்பட்ட காலம் தொடர்பில் ஒரு நாட்டின் ஏற்றுமதி செய்யப்பட்ட பொருட்களின் பெறுமதிக்கும், இறக்குமதி செய்யப்பட்ட பொருட்களின் பெறுமதிக்கும் இடையிலான வித்தியாசம் ..... என அழைக்கப்படும்  
(2012 / 37 / அ)
28. கடன் விற்பனைகள் மீதான பணத்தைச் சேகரிப்பதற்குரிய பொறுப்பை ஏற்றுக்கொள்ளும் முகவர் ..... என அழைக்கப்படும்  
(2010 / B - I / 29)
29. 2008ஆம் ஆண்டில் இலங்கையில் இறக்குமதியின் மீது நுகர்வுப் பொருட்கள், இடைநிலைப்பொருட்கள் மற்றும் முதலீட்டுப்பொருட்கள் ஆகியவற்றுக்கிடையே அதி உயர்ந்தளவு செலவை ஏற்படுத்தியது ..... என அழைக்கப்படும்  
(2010 / B - I / 30)
30. கப்பல் மூலம் பொருட்களை கொண்டு செல்லும் போது பயன்படுத்தப்படும் பிரதான ஆவணம் ..... என அழைக்கப்படும்  
(2009 / B - I / 27)
31. ஏனைய நாடுகளை விடவும் குறைந்த கிரயத்தில் குறித்தவொரு உற்பத்திப்பொருளை உற்பத்தி செய்யும் ஒரு நாட்டின் ஆற்றல் ..... எனப்படும்  
(2009 / B - I / 29)
32. இறக்குமதிப் பொருட்களின் கொடுப்பனவை உறுதிப்படுத்துவதற்கு இறக்குமதியாளர்களின் வங்கியால் ஏற்றுமதியாளனுக்கு வழங்கப்படும் ஆவணம் ..... எனப்படும்  
(2009 / B - I / 30)
33. இணையத்தொழிநுட்பத்தில் தொடர்புகொள்ளப் பயன்படுத்தப்படுகின்ற ஏதாவது வணிகச்செயன்முறை ..... என அழைக்கப்படும்  
(2008 / B - I / 21)
34. இறுதி நுகர்வோனுக்குப் பொருட்களை விற்பனை ..... என அழைக்கப்படும்  
(2008 / B - I / 28)
35. குறித்தவொரு காலப்பகுதி தொடர்பாக ஒரு நாட்டின் இறக்குமதி செய்த பண்டங்களினதும் சேவைகளினதும் பெறுமானத்திற்கும் ஏற்றுமதி செய்த பண்டங்களினதும் சேவைகளினதும் பெறுமானத்திற்கு மிடையிலான வித்தியாசம் ..... என அழைக்கப்படும்  
(2007 / B - I / 27)

**பின்வரும் வினாக்களுக்கு மிகப்பொருத்தமான விடை எழுதுக**

36. இலங்கை ஏற்றுமதி அபிவிருத்திச் சபையின் குறிக்கோள்கள் நான்கினைக் குறிப்பிடுக? 2019/42

- .....
- .....
- .....
- .....

37. முகவர்களால் வழங்கப்படும் சேவைகளின் பிரகாரம் குறித்த முகவர்களையும் அவர்களால் அறவிடப்படும் கட்டணங்களையும் பின்வரும் அட்டவணையில் நிரப்புக (2015 / 44)

நடவடிக்கை	முகவர்	முகவர் கட்டணம்
1. முதல்வர் சார்பாக கடன் விற்பனை களுக்கான வருமதிகளை வதுலித்தல்	.....	.....
2. முதல்வர் சார்பாக உயர்வான விலையைக் கோருவதற்காக விற்பனை நடவடிக்கைகளை வெளிப்படையாகவும் வாய்மொழி மூலமாகவும் கூட்டிணைத்தல்	.....	.....

38. சர்வதேச வியாபாரத்தில் பயன்படுத்தப்படும் பின்வரும் சுருக்கக்குறியீடுகளின் முழுப்பெயரை எழுதுக (2015 / 45)

1. CIF..... 2. L/C.....  
3. FOB..... 4. B/L .....

39. அ. EU ,WTO, ASEAN,SAARC ஆகிய அமைப்புகளுள் எதனை வியாபார கூட்டணியாக (trade bloc) கருதமுடியாது?

ஆ, இறக்குமதி செய்த பொருட்களை துறைமுகத்துக்கு வெளியே கொண்டுவந்து செயன்முறைக்கு உட்படுத்தியோ அல்லது செயன்முறைக்கு உட்படுத்தலாமோ மீண்டும் ஏற்றுமதி செய்வதற்கு உபயோகிக்கும் சொற்பதம் யாது?

(2012 / 45)

40. இலத்திரனியல் வர்த்தகத்தை நான்கு பரந்த பிரிவுகளாக வகைப்படுத்த முடியும். இந்த நான்கையும் (04) பெயரிடுக

(2011 / 46)

1. ....  
2. ....  
3. ....  
4. ....

41. சீபா (CEPA) என்பது எதனைக் குறித்து நிற்கின்றது?

(2010 / B - I / 38)

42. சரக்குகளை பேணி வைத்திருக்காமல் கொள்வனவாளர்களுக்கும் விற்பனையாளருக்கும் இடையே கொடுக்கல் வாங்கலில் உதவுகின்ற இடைநடுவர் யார்?

(2009 / B - I / 38)

43. சார்க் (SAARC) நிறுவனத்தின் தற்போதைய அங்கத்துவ நாடுகளைப் பெயரிடுக

(2009 / B - I / 39)

1. .... 2. ....  
3. .... 4. ....  
5. .... 6. ....  
7. .... 8. ....

### பகுதி - II

01. 'ஒப்பீட்டு கிரய அணுகூலம்' என்பதனை விளக்குக?

2019/4V-a

- .....
- .....
- .....
- .....

02. விநியோகத்தில் பங்குபற்றும் இடைநிலை வணிகர்கள் இருவரைக் குறிப்பிடுக

(2012 / 01 / iii / ஈ)

03. இலங்கையின் நகர்புறங்களில் சிறப்பு அங்காடிகளின் எண்ணிக்கை குறிப்பிடத்தக்களவில் அதிகரித்துள்ளது. சிறப்பு

அங்காடிகளில் வாடிக்கையாளருக்கு கிடைக்கும் நான்கு நன்மைகளை எழுதுக

(2014 / 04 / v / அ)

04. சிறப்பு சந்தைகள் என்பது சில்லறை வியாபாரத்தில் காணப்படும் ஒரு புதிய போக்கு ஆகும் நுகர்வோரிடையே இச்

சிறப்புச்சந்தைகள் பிரசித்தமாகக் காணப்படுவதற்கான காரணங்களைக் குறிப்பிடுக

(2012 / 04 / iv)

05. சில்லறை வியாபாரத்தில் காணப்படும் புதியபோக்கு களஞ்சியப்படுத்தலற்ற சில்லறை வியாபாரமாகும். இவற்றுள் பல்

வேறு முறையிலான களஞ்சியப்படுத்தலற்ற சில்லறை வியாபாரங்களை உதாரணங்களுடன் விளக்குக (2011 / 04 / iv)

05. மரபுரீதியான சில்லறை வியாபாரமானது படிப்படியாக இலத்திரனியல் சில்லறை வியாபாரமாக மாறி வருகின்றது. இவ்

வாறான போக்கிற்கான காரணங்களை விளக்குக

(2010 / B - I / 02 / iv)

06. சிறுகுறிப்பு எழுதுக

தீர்வையற்ற கடைகள் (Duty Free shop)

(2009 / B - I / 06 / iii / அ)

07. மொத்த வியாபாரத்தை வரையறுக்குக

(2012 / 04 / v / அ)

08. இரு வகையான மொத்த வியாபாரிகளைக் குறிப்பிடுக

(2012 / 04 / v / ஆ)

09. ஒரு மொத்த வியாபாரியின் நான்கு தொழிற்பாடுகளைத் தருக

(2012 / 04 / v / இ)

10. விநியோக வழிமுறையில் இருந்து மொத்த விற்பனையாளரை அகற்றுவதற்குச் சார்பாகவும், எதிராகவும் இரண்டு காரணங்கள் வீதம் குறிப்பிடுக

(2015 / 04 / iv )

11. உற்பத்தியாளர்களுடைய நோக்கில் இருந்தும் இறுதியாக பயன்படுத்துவோர் நோக்கில் இருந்தும் உற்பத்திப் பொருட்களை விநியோகிப்பது தொடர்பில் இடைநடுவர்களைப் பயன்படுத்துவதனால் ஏற்படும் அனுகூலங்களையும், பிரதிகூலங்களையும் தனித்தனியாக குறிப்பிடுக

(2010 / B - II/03 / iv / அ)

12. விவசாய உற்பத்திகளின் விலை உயர்வுக்கு விவசாயிகளும், வணிகர்களும் பொறுப்புடையவர்களாவர். என்பதனை உதாரணங்கள் தருவதன் மூலம் விளக்குக

(2016 / 04 / iii/ அ)

13. இலங்கையில் இருந்து ஏற்றுமதி செய்யப்படுகின்ற இரண்டு சேவைகளை சுருக்கமாக விபரிக்குக

(2015 / 01 / iii/ ஆ)



14. வெளிநாட்டு வியாபாரத்தின் ஊடாக நாடுகள் அடைந்துகொள்ளக்கூடிய அனுசூலங்களை விளக்குக

(2011 / 04/v / அ)

.....

.....

.....

.....

.....

15. நீர் உமது பாடசாலை விவாதக்குழுவின் ஓர் அங்கத்தவர் எனவும் அடுத்தவாரம் நாடொன்று பொருட்களை இறக்குமதி செய்ய வேண்டும் எனும் தலைப்பில் இடம்பெறவுள்ள விவாதம் ஒன்றில் உமது குழு பங்குபற்றவுள்ளதாக கருதிக்கொள்க

(2014 / 04/iv)

அ. மேற்படி தலைப்பிற்கு சார்பான நான்கு விடயங்களை எழுதுக  
ஆ. மேற்படி தலைப்பிற்கு எதிரான நான்கு விடயங்களை எழுதுக

16. சர்வதேச சந்தையில் நுழையும் போது உள்நாட்டு வணிகர்கள் முகம்கொடுக்க நேரிடும் நான்கு இடையூறுகளை விபரிக்குக

(2016 / 04 / iii/ ஆ)

.....

.....

.....

.....

.....

18. பின்வருவன இறக்குமதி, ஏற்றுமதி வியாபாரத்தில் பயன்படுத்தப்படும் சில ஆவணங்களாகும். ஒவ்வொரு ஆவணத்தினதும் நோக்கங்களை விளக்குக

(அ) வார்நாமம்

(ஆ) நாணயக்கடிதம்

(இ) உற்பத்தி நாட்டுச்சான்றிதழ்

(ஈ) இறக்குமதி குறிப்பு

.....

.....

.....

.....

.....

19. உலக வியாபார ஸ்தாபனத்தின் பிரதான நோக்கம் யாது?

(2010 / B - I / 06 / ii / ஆ)

.....

.....

.....

20. சர்வதேச வர்த்தக உடன்படிக்கைகள் மூலம் வணிகர்களுக்கு கிடைக்கக்கூடிய இரண்டு அனுசூலங்களை இரண்டு பிரதிகூலங்களையும் விளக்குக

(2016 / 04 / iv)

.....

.....

.....

.....

21. 1. சர்வதேச வியாபார வளர்ச்சிக்கு எதிரான தடைகள் இரண்டைக் குறிப்பிடுக?

.....

.....

.....

2. அவ்வாறான தடைகளை வெற்றிக்கொள்வதற்காக தொழிற்படும் 2 சர்வதேச அமைப்புக்களைப் பெயரிடுக?

(2011 / 04 / V / ஆ/இ)

22. இலத்திரனியல் வர்த்தகத்தின் (E – commerce) விரிவாக்கத்தின் மூலம் வாடிக்கையாளர் வணிகநபர்கள் ஆகிய இருசாரருக்கும் கிடைக்கும் அனுசூலங்களை தனித்தனியே குறிப்பிடுக

(2007 / BI / 03 / i)

23 இலத்திரனியல் வர்த்தகத்தின் மூலம் நுகர்வோரும் வணிகர்கள் மட்டுமன்றி முழுச்சமூகமும் நன்மையை பெற்றுக் கொள்கின்றது சமூகம் தொடர்பில் இலத்திரனியல் வர்த்தகத்தின் நன்மைகளை ஆராய்க

(2013 / 04 / iv)

24. வாடிக்கையாளர்கள் வணிக நடவடிக்கைகளில் இலத்திரனியல் ஊடகங்களைப் பயன்படுத்துவதில் இன்னமும் தயக்கம் காட்டுகின்றமையை காணக்கூடியதாகவுள்ளது. இத்தயக்கத்திற்கான காரணம் நான்கினை எழுதுக

(2014 / 04 / V / ஆ)

25. இலத்திரனியல் வர்த்தகத்திற்கான வணிகர் ஒருவர் பெற்றுக்கொள்ளக்கூடிய 2 அனுசூலங்களை குறிப்பிடுக

(2016 / 04 / V / அ)

26. இலத்திரனியல் வர்த்தகத்தினால் வாடிக்கையாளர் ஒருவருக்குக் கிடைக்கும் இரண்டு பிரதிகூலங்களை குறிப்பிடுக

(2016 / 04 / V / ஆ)

27. சில்லறை வணிகத்துறையில் சிறப்புச்சந்தைகள் மிகவும் பிரசித்தி பெற்று விளங்குகின்ற போதிலும் இன்றும் மரபுரீதியான சில்லறைக்கடைகளும் பரவலாகக் காணப்படுகின்றமையில் செல்வாக்குச் செலுத்தும் காரணிகள் நான்கினை குறிப்பிடுக (2017 / B ii / 4 - iii)

28. பொருட்களை விநியோகிக்கும் செயன்முறையில் மொத்த வியாபாரங்கள் முக்கியமானதொரு தரப்பினராவார். இக் கருத்திற்கு சார்பாகவும் எதிராகவும் ஒவ்வொன்றிற்கும் இரண்டு காரணங்கள் வீதம் குறிப்பிடுக(2017/BII/ 4 - iv - ஆ)

29. முன்னுரிமைக்கான பொதுமைப்படுத்தப்பட்ட முறைமை GSP+ என்பதனால் கருதப்படுவது யாது? (2017 / B ii/ 4 - iv - ஆ)

30. இலத்திரனியல் வியாபாரம் நிகழ்வதின் படிமுறைகளைப் பட்டியல்படுத்துக (2017 / Bii/ 4 - iv)

## ஆசிரியரின் வகுப்பு நடைபெறும் இடங்கள்

- 1.D.M.I - யாழ் நகர்
- 2.D.M.I - சுன்னாகம்
- 3.M.B.கணக்கீட்டு கல்வாரி - கைதடி
- 4.பிரத்தியேக வகுப்புகள் - கோண்டாவில்
- 5.மொடேன் கல்வி நிலையம் - சண்டிலிப்பாய்
- 6.Subra(14) - சித்தன்கேணி
- 7.யாழ்ப்பாணக்கல்வாரி - ஆங்கில மொழி வகுப்பு

